

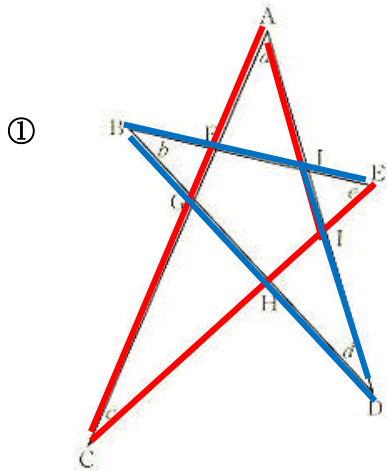
6 本時の展開

<p>本時の目標</p>	<p>星形五角形の特徴を捉え、その性質について調べようとしている。</p>		
<p>観点別評価規準</p>	<p>発展的な課題（星形五角形）の角の和に関心を持ち、その性質について調べようとしている。（関心・意欲・態度） 既習事項を用いて、根拠を基に星形五角形の角の和を考えることができる。（数学的な考え方）</p>		
<p>準備物</p>	<p>半紙、磁石、星形の厚紙、A3用紙、マーカー、ホワイトボード</p>		
<p>学習の展開</p>			
<p>学習活動</p>	<p>指導上の留意事項</p>	<p>評価規準</p>	<p>評価方法</p>
<p>●星形の絵を見せる。</p> <p>●課題を提示し、何度になるか予測させる。（個人1分） →180°だ。 →360°だ。</p> <p>●星形五角形の角の和を求めさせる。（個人2+3分→班10分） →平行線を引いてみよう。 →角度を移動させて、三角形を作ってみよう。 →補助線を引いてみよう。</p> <div data-bbox="129 1249 448 1487" data-label="Image"> </div> <p>○まとめた物を発表し、前に掲示する。（代表3組程度）</p> <p>● <math>\angle a + \angle b + \angle c + \angle d + \angle e = 180^\circ</math> となることを確認させる。</p> <p>○自分の考えをまとめる。</p>	<p>・前時まで、角度のある身近な図形はどのようなものがあるか調べさせ、その代表として紹介する。</p> <p>・今まで習ったことを問いかけ、黒板に既習事項を提示する。</p> <p>・ワークシートを渡す。</p> <p>・角に名前を付ける。</p> <p>・解法はできるだけ多く出すことに価値があると伝える。</p> <p>・班の中で出された考え方の中で、わかりやすいとおもう考え方をA3用紙にまとめさせる。その際、何を根拠にして求めたのか書かせる。</p> <p>・班で1枚にまとめる。</p> <p>・どの班も同じ方法でまとめている場合は、別の方法を書かせて、全体に示す際になるべく多様な考え方が出されるようにしたい。</p> <p>・今までに習ったどの根拠を利用して求めたのか確認する。</p> <p>・数学的用語が使えているか確認し、その都度修正する。</p> <p>・それぞれの方法は異なるが、共通して答えが等しくなることから、演繹的に証明することができることを確認する。</p> <p>・「～の考えを使って、角度をもとめることができた。」「～さんの話を聞いて、～の考えを使っていることが分かった。」という表現でまとめさせたい。</p>	<p>発展的な課題（星形五角形）の角の和に関心を持ち、その性質について調べようとしている。（関心・意欲・態度）</p> <p>既習事項を用いて、根拠を基に星形五角形の角の和を考えることができる。</p>	<p>観察</p> <p>ノート、発言</p>

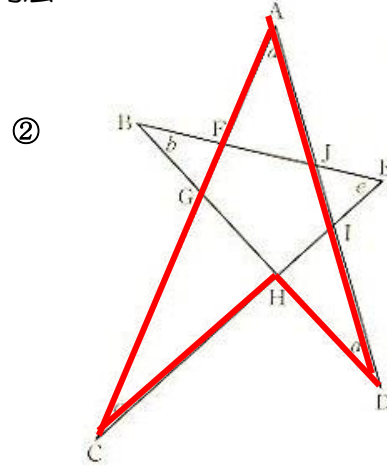
今まで習ったことを使って、星形五角形の角の和の求め方を説明しよう。

○は生徒の活動、●は教師の活動を示す。

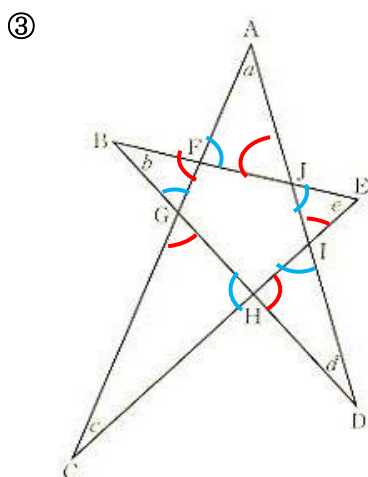
考えられる方法



三角形の外角の性質から、  
 $\angle a + \angle c = \angle J I \dots ①$   
 同様に、 $\angle d + \angle b = \angle I J E \dots ②$   
 $\triangle J I E$ の内角の和は $180^\circ$ より  
 $\angle J I E + \angle I J E + \angle e = 180^\circ$   
 ①、②より  
 $\angle a + \angle c + \angle d + \angle b + \angle e = 180^\circ$   
 よって、  
 $\underline{\angle a + \angle b + \angle c + \angle d + \angle e = 180^\circ}$



四角形ACHDは凹四角形なので、  
 $\angle a + \angle c + \angle d = \angle CHD \dots ①$   
 また、 $\angle CHD = \angle BHE$  (対頂角)  $\dots ②$   
 ①、②より、  
 $\angle a + \angle c + \angle d = \angle BHE \dots ③$   
 $\triangle BHE$ の内角の和は $180^\circ$ より  
 $\angle b + \angle BHE + \angle e = 180^\circ$   
 ③より  $\angle b + \angle a + \angle c + \angle d + \angle e = 180^\circ$   
 よって、  
 $\underline{\angle a + \angle b + \angle c + \angle d + \angle e = 180^\circ}$

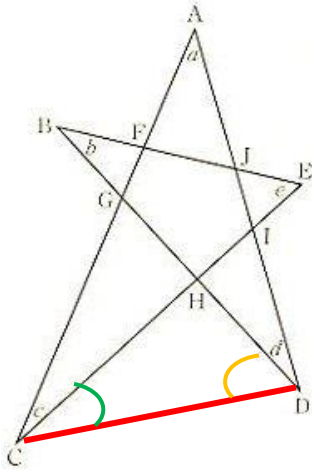


五角形FGH I Jの外角の和は $360^\circ$ なので  
 $\angle CHG + \angle BGF + \angle AFJ + \angle EJI + \angle DIH = 360^\circ$   
 また、  
 $\angle CGH + \angle BFG + \angle AJF + \angle EIJ + \angle DHI = 360^\circ$   
 $\triangle AFJ$ の内角の和は $180^\circ$ なので、  
 $\angle a + \angle AFJ + \angle AJF = 180^\circ$   
 $\triangle BGF, \triangle CGH, \triangle DHI, \triangle EIJ$ も同様に言えるので  
 $\angle b + \angle BGF + \angle BFG = \angle c + \angle CGH + \angle CHG$   
 $= \angle d + \angle DHI + \angle DIH = \angle e + \angle EIJ + \angle EJI = 180^\circ$

変形して、 $\angle a + \angle b + \angle c + \angle d + \angle e = 180^\circ \times 5 - \angle AFJ - \angle AJF - \angle BFG - \angle BGF$   
 $- \angle CGH - \angle CHG - \angle DHI - \angle DIH - \angle EIJ - \angle EJI$   
 $= 900^\circ - 360^\circ \times 2 = 900^\circ - 720^\circ = 180^\circ$

よって、  
 $\underline{\angle a + \angle b + \angle c + \angle d + \angle e = 180^\circ}$

④



上の図のように線分CDをとると  
△CDHの内角の和は180°なので  
線

$$\angle CHD + \angle HCD + \angle HDC = 180^\circ \dots ①$$

△BEHの内角の和も180°なので

$$\angle CHD + \angle b + \angle e = 180^\circ \dots ②$$

ここで、 $\angle CHD = \angle BHE$  (対頂角)  $\dots ③$

①、②、③より

$$\angle b + \angle e = \angle HCD + \angle HDC \dots ④$$

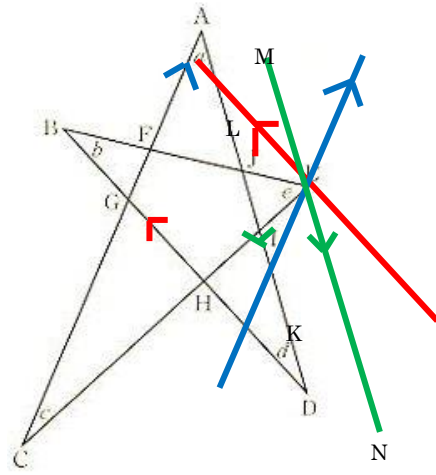
△ACDの内角の和は180°なので

$$\begin{aligned} & \angle a + \angle ACD + \angle ADC \\ &= \angle a + \angle c + \angle HCD + \angle d + \angle HDC \\ &= \angle a + \angle b + \angle c + \angle d + \angle e \quad (④より) \\ &= 180^\circ \end{aligned}$$

よって、

$$\underline{\underline{\angle a + \angle b + \angle c + \angle d + \angle e = 180^\circ}}$$

⑤



上の図のように点Eを通り、辺ACに平行な  
線と辺ADとの交点をK、辺BDに平行な  
線と辺ADとの交点をL、辺ADに平行な線  
を線分MNとすると、

$$\angle KE \neq \angle c, \angle LE \neq \angle b \text{ (錯角)} \dots ①$$

$$\angle ELK = \angle d, \angle EKL = \angle a \text{ (錯角)} \dots ②$$

$$\begin{aligned} & \angle ELK = \angle LEM, \angle EKL = \angle KEN \\ & \text{(対頂角)} \dots ③ \end{aligned}$$

②、③より  $\angle LEM = \angle d, \angle KEN = \angle a \dots ④$

線分MN上で、

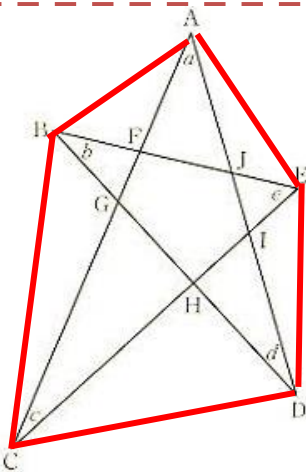
$$\begin{aligned} & \angle LEM + \angle LEK + \angle KEK + \angle KEN \\ &= 180^\circ \end{aligned}$$

①、④を代入して

$$\angle d + \angle b + \angle e + \angle c + \angle a = 180^\circ$$

よって、 $\underline{\underline{\angle a + \angle b + \angle c + \angle d + \angle e = 180^\circ}}$

⑥



左の図のようにABCDEを結ぶと五角形ABCDEができ、  
五角形ABCDEの内角の和は $180^\circ \times (5-2) = 540^\circ$ である。

ここで△ABFに対して、

$$\angle ABF + \angle BAF = 180^\circ - \angle AFB = 180^\circ - \angle JF \text{ (対頂角)}$$

△JFGは、五角形FGHIJの内角の一つであり、△BCG、  
△CDH、△DEI、△EAJに対して同様に行うと、

$$\angle BCG + \angle CBG = 180^\circ - \angle FGH \dots ①$$

$$\angle CDH + \angle DCH = 180^\circ - \angle GHI \dots ②$$

$$\angle DEI + \angle EDI = 180^\circ - \angle HIJ \dots ③$$

$$\angle EAJ + \angle AEJ = 180^\circ - \angle IJF \dots ④$$

①、②、③、④より  $\angle a + \angle b + \angle c + \angle d + \angle e = 540^\circ - (180^\circ \times 5 - 540^\circ) = 180^\circ$

よって、

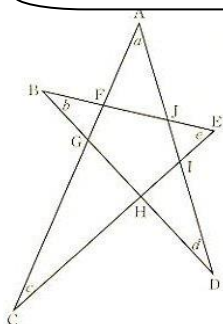
$$\underline{\underline{\angle a + \angle b + \angle c + \angle d + \angle e = 180^\circ}}$$

7 板書計画






今日の学習 星形五角形の角の和の求め方を説明しよう。

を説明しよう。

今まで習ったことを使って



$$\angle a + \angle b + \angle c + \angle d + \angle e = \boxed{?}^\circ$$

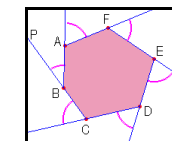
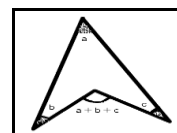
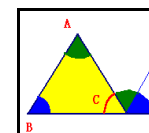
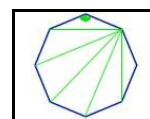


〜の考え方

〇〇の考え方

△△の考え方

今まで習ったこと



まとめ

$$\angle a + \angle b + \angle c + \angle d + \angle e = 180^\circ$$

(〜〜〜の考え方を使って求めることができた)

8 次時の展開

<p><b>本時の目標</b></p>	<p>星形n角形の特徴を捉え、その性質について調べようとしている。</p>		
<p><b>観点別評価規準</b></p>	<p>発展的な課題(星形n角形)の角の和に関心を持ち、その性質について調べようとしている。(関心・意欲・態度) 既習事項を用いて、根拠を基に星形n角形の角の和を考えることができる。(数学的な考え方)</p>		
<p><b>準備物</b></p>	<p>半紙、磁石、星形の厚紙、A3用紙、マーカー、ホワイトボード</p>		
<p><b>学習の展開</b></p>			
<p><b>学習活動</b></p>	<p><b>指導上の留意事項</b></p>	<p><b>評価規準</b></p>	<p><b>評価方法</b></p>
<p>○既習事項の確認をする。 「星形五角形の角の和」</p> <p>●星形六角形や七角形をノートに書かせる。</p>	<ul style="list-style-type: none"> <li>・黒板に残しておく。</li> <li>・星形五角形の次が無いか考えさせる。その際、星形六角形や星形七角形が出てくるよう誘導する。</li> </ul>	<p>発展的な課題(星形n角形)の角の和に関心を持ち、その性質について調べようとしている。(関心・意欲・態度)</p>	<p>観察</p>
<p>今まで習ったことを使って、星形六角形・星形七角形の角の和を調べ、説明しよう。</p>			
<p>●課題を提示する。 ①n=6 のとき、星形六角形の角を求めよう。 ②n=7 のとき、星形七角形の角を求めよう。 三角形2つ分である→<math>360^\circ</math> だ。 角度を移動させていくと <math>540^\circ</math> だ。 個人思考5分 ↓ 班員で共有・A3用紙にまとめ7分</p> <p>○全体に説明する。</p> <p>○自分の考えをまとめる。</p> <p>●角度とnの関係に、ある法則がないか考えさせる。 →nが1つ増えると <math>180^\circ</math> ずつ増えている。 →星形八角形を書いてみると、四角形2つ分だから、確かに <math>180^\circ</math> 増えている。 →<math>180^\circ \times (n-4)</math> になる。</p>	<ul style="list-style-type: none"> <li>・点を一つとばして結んで作図させる。</li> <li>・黒板に、既習事項を提示して、徐々にヒントを与える。</li> <li>・支援を要する生徒には、具体物やヒントカードを渡す。</li> <li>・班の中で出た考えを、誰が見ても伝わるようにするためには、どう表現したらいいか考えさせる。</li> <li>・班の意見は一つにまとめる必要はない。</li> <li>・導入で用いたどの根拠を利用したのか言わせる。</li> <li>・数学的用語が使えているか確認し、修正する。</li> <li>・「自分は～の考えを使って、角度をもとめることができた。」「自分は～さんの話を聞いて、～の考えを使っていることが分かった。」という表現でまとめる。</li> <li>・角度が <math>180^\circ</math> ずつ増えていることを確認させる。</li> <li>・星形八角形や星形九角形も求めさせておき、実際に <math>180^\circ</math> ずつ増えていることを確認させる。</li> </ul>	<p>既習事項を用いて、根拠を基に星形n角形の角の和を考えることができる。</p>	<p>ノート、発言</p>