

基本的な学習内容 ③

1年 氏名 (

| |
|------------|
| 解 答 |
|------------|

)

【地球に見られる現象】 (教科書P9)



① 上の写真は、日本が夏の時期にノルウェーで見られる太陽の動きを示している。この太陽が一日中沈まない現象を何というか。

①

| |
|------------|
| 白 夜 |
|------------|

② ①とは逆に、日本の冬の時期には、太陽が一日中昇らない現象が見られる。これを何というか。

②

| |
|------------|
| 極 夜 |
|------------|

③ ①や②のような現象が見られる理由を、「地軸」の語句を使って簡潔に説明しなさい。

| |
|----------|
| 例 |
|----------|

 地球の地軸が傾いているから。

【世界の国々】 (教科書P10~13)

④ 2013年現在、国連に加盟している国はいくつあるか。

④

| |
|------------|
| 193 |
|------------|

 か国

⑤ 世界でもっとも面積の大きな国はどこか。

⑤

| |
|-------------|
| ロシ ア |
|-------------|

⑥ 世界でもっとも面積の小さい国はどこか。

⑥


| |
|---------------|
| バチカン市国 |
|---------------|

- ⑦ 下のA・Bの国旗をもつ国の国名をそれぞれ答えなさい。

A



B



⑦ A

イギリス

B

オーストラリア

- ⑧ ⑦の2つの国旗に共通する部分がある理由を簡潔に述べなさい。

例 BはかつてAの植民地だったから。 など


- ⑨ 下のC～Eの国旗をもつ国の国名を、国旗の横にあるヒントを参考にしてそれぞれ答えなさい。

C




首都はアンカラ。2020年に開かれるオリンピックの有力な開催候補地。

D



首都はイスラマバード。インドと原爆の開発などで対立してきた国。

E



首都はクアラルンプール。東南アジアの中心的な国の一つとなっている。

⑨ C

トルコ

D

パキスタン

E

マレーシア

- ⑩ ⑨の3つの国の国旗には、共通して三日月と星が描かれている。この三日月と星は何を表したのか。簡潔に述べなさい。

例 イスラム教の国であることを表している。

- ⑪ 「低地」という意味のネーデルランドを正式国名としている国はどこか。

〈Hint! 日本は鎖国中にもこの国と貿易してたよ〉

⑪

オランダ

- ⑫ 「赤道」という意味の国名をもつ南アメリカの国はどこか。

⑫

エクアドル

- ⑬ アフリカの国々の国境線は、直線になっているところが多い。その理由を、「ヨーロッパ」「植民地」「国境」の3語を使って簡潔に説明しなさい。

例 アフリカは、かつてヨーロッパの国々の植民地であり、緯線や経線をもとにして国境がひかれたから。