

# 基本的な学習内容①

1年 氏名 (

**解答**

)

## 【熱帯・乾燥帯①】 (教科書P16~19)

① 熱帯は、主に赤道から北はどこまでの地域に分布しているか。

①

**北回帰線**

② 熱帯は、主に赤道から南はどこまでの地域に分布しているか。

②

**南回帰線**

③ 熱帯の地域において、年間の気温の変化の特徴を簡潔に説明しなさい。

**例** 年中高温で変化が少ない。

④ 熱帯の地域で見られる、午後の短い時間に激しく降る雨を、何というか。

④

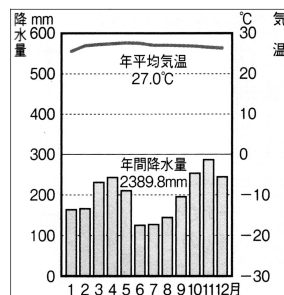
**スコール**

⑤ 熱帯地域では、多雨なため常緑広葉樹の森林が広がっている。この森林を特に何というか。

⑤

**熱帯雨林**

⑥ 熱帯の地域でも、右はクアラルンプールの雨温図である。このような赤道周辺に見られる気候は何か。



⑥

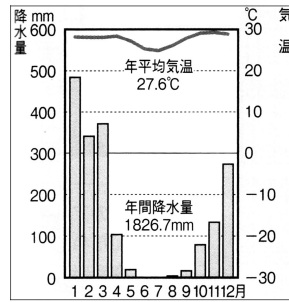
**熱帯雨林**

気候

⑦ ⑥のような気候では、高床式の家が見られる。なぜこの地域では高床式の家なのか、その理由を1つだけ説明しなさい。

**例** 床下の風通しをよくするため。洪水が多いため。

- ⑧ 熱帯の地域でも、右はダーウィンの雨温図である。このような①や②の周辺に見られる気候は何か。



⑧ サバナ 気候

- ⑨ ⑧の気候では、雨温図にもあるように、雨の多い季節と少ない季節が見られる。雨の多い季節を、特に何というか。

⑨ 雨 季

- ⑩ ⑨で、雨の少ない季節を、特に何というか。

⑩ 乾 季

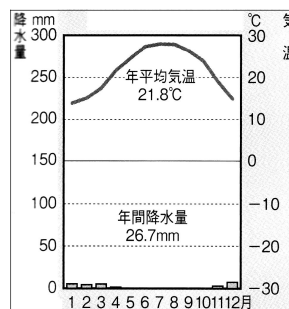
- ⑪ ⑧の気候の地域に見られる、低木がまばらに生えた草原を、特に何というか。

⑪ サバナ

- ⑫ 年間の降水量が数十mmほどになる気候帯を何というか。

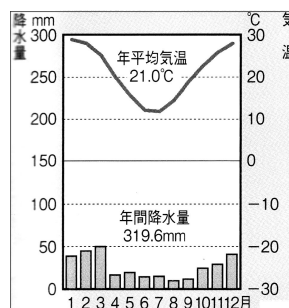
⑫ 乾 燥 帯

- ⑬ ⑫のうち、右はカイロの雨温図である。この雨温図が示す気候は何か。



⑬ 砂漠(さばく) 気候

- ⑭ ⑫のうち、右はアリスプリングスの雨温図である。この地域では短い草の生える草原が広がることため、何気候と呼ばれるか。



⑭ ステップ 気候

- ⑮ ⑫の気候帯は、農業に適さないために、家畜とともに移動して暮らす人々がいる。このような人々を何というか。

⑮ 遊 牧 民