

## 基本的な学習内容 ③

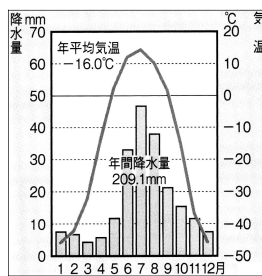
1年 氏名 ( 解 答 )

### 【冷帯と寒帯・高山気候】 (教科書P22~25)

- ① 温帯より高緯度側や内陸側に見られる気候帯は何か。

① 冷 (亜寒) 帯

- ② 下の雨温図は、①の気候帯に属するオイミヤコンの雨温図である。この雨温図から、①の気候帯の特徴を簡潔に述べなさい。



例 短い夏がある。  
例 一年で、夏と冬の気温差が最も大きい。

- ③ ①の気候帯に見られる針葉樹林帯を、特に何というか。

③ タ イ ガ

- ④ ①よりさらに高緯度の地域に広がる気候帯は何か。

④ 寒 帯

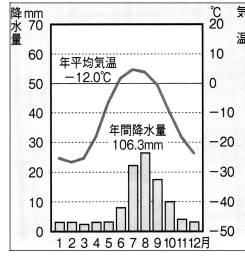
- ⑤ ④の気候帯の中には、一年中地面が凍っている地域が見られる。このような土地を特に何というか。

⑤ 永久凍土

- ⑥ ④の気候帯の中でも、低緯度の地域にはこけ類や草などの植物の生える地域がある、この地域を何というか。

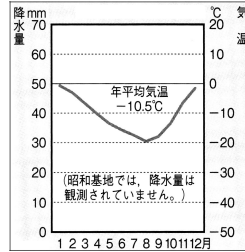
⑥ ツンドラ

- ⑦ 右の雨温図は、⑥の地域が見られるバロアの雨温図である。この地域の気候名は何か。



⑦ ツンドラ 気候

- ⑧ 右の雨温図は、④の気候帯でも最も高緯度にある南極の昭和基地の雨温図である。この地域の気候名は何か。



⑧ 氷雪 気候

- ⑨ ①や④の気候帯で、カナダ北部やアラスカなどに暮らしている先住民を何というか。

⑨ イヌイット

- ⑩ ①や④の気候帯で主に見られる、一日中太陽が沈まない現象を、特に何というか。

⑩ 白夜

- ⑪ ⑩に対して、一日中太陽がのぼらない現象を、特に何というか。

⑪ 極夜

- ⑫ 南アメリカ大陸の太平洋側に南北につらなる山脈は何か。

⑫ アンデス 山脈

- ⑬ ⑬を含め、南アメリカ大陸に暮らす先住民を、特に何というか。

⑬ インディオ

- ⑭ ⑫の山脈などの高地で飼育されている、寒さに強い家畜を1つ挙げなさい。

⑭ アルパカ、リャマ

- ⑮ ⑫の山脈などの高地で使われている、昼夜の寒暖の差に対応するために、布に頭の部分をくりぬいて作られている衣服は何か。

⑮ ポンチョ