

平成30年度 A日程
学力検査問題

②

社 会

注 意

- 1 開始の合図があるまで問題用紙を開いてはいけません。
- 2 解答用紙は問題用紙の中に挟んであります。
- 3 問題用紙は表紙を除いて11ページで、問題は□1から□6まであります。
- 4 開始の合図があったら、まず、問題用紙および解答用紙の所定の欄に
受検番号を書きなさい。
- 5 答えはすべて**解答用紙の指定された欄**に書きなさい。

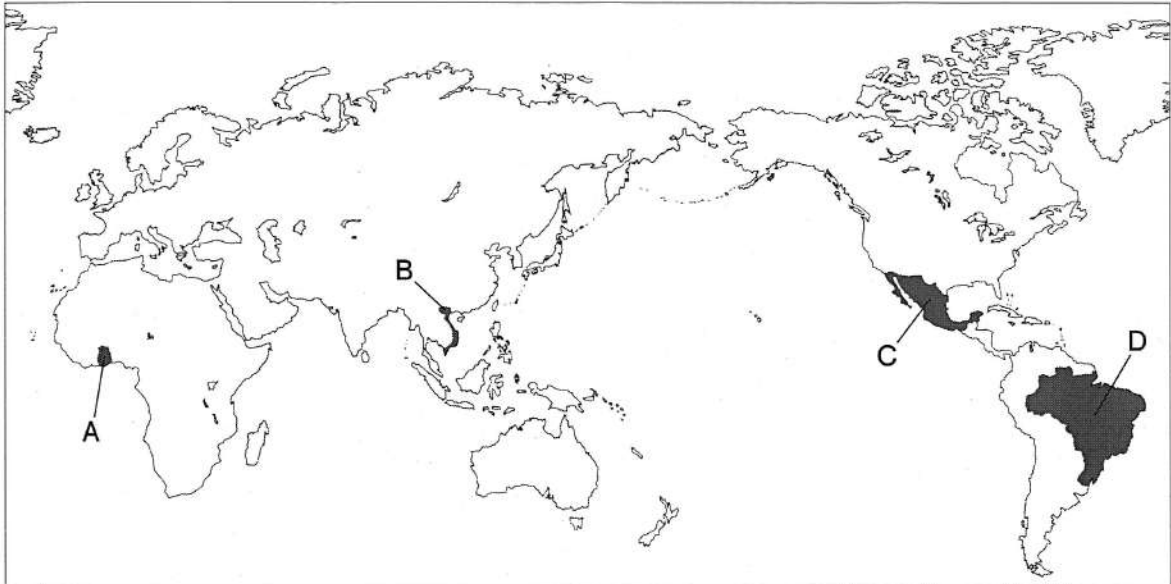
受 検 番 号

--

1 次の1～4の問いに答えなさい。

1 次の略地図を見て、下の(1)・(2)の問いに答えよ。

略地図

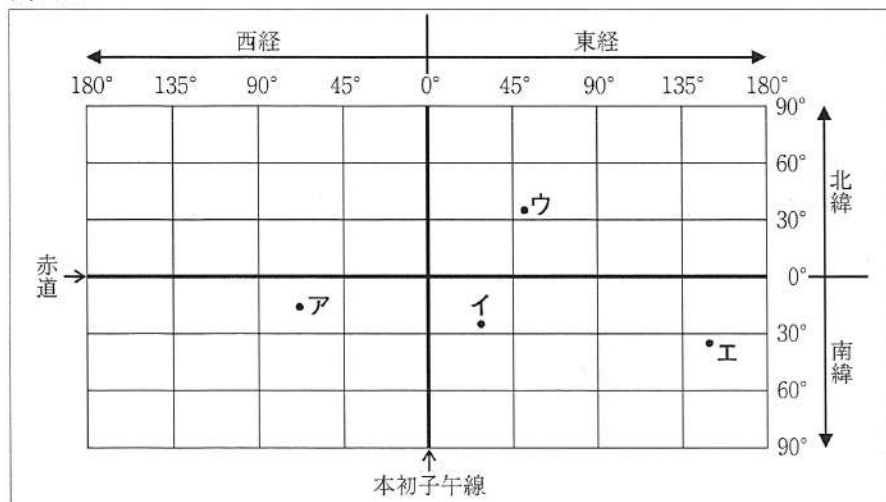


(1) 次の文は、ある国の特徴について述べたものである。この国を、地図中の●で示したA～Dから一つ選び、その記号を書け。

この国は、かつてポルトガルの植民地であったことから、現在でも公用語はポルトガル語である。近年では工業化が進み、自動車産業などが発展している。また、世界最大の流域面積をもつ川が流れており、この川の流域には、広大な熱帯林が広がっている。しかし、20世紀後半から、熱帯林地域の大規模な開発が進み、環境への影響が心配されている。

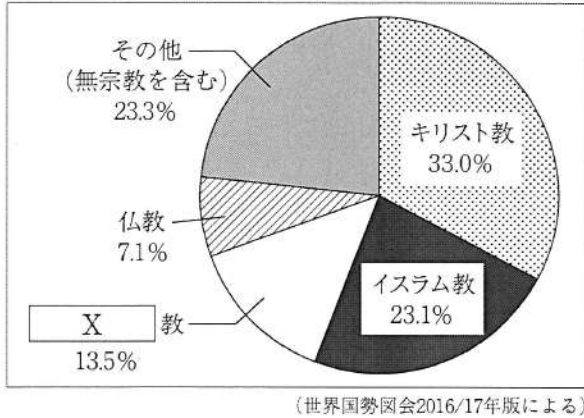
(2) 次の資料Iは、本初子午線と赤道を軸として、経線と緯線が直角に交わるようにかいた模式図であり、●印で示したア～エはそれぞれ、南アフリカ共和国、オーストラリア、イラン、ボリビアのいずれかの国の首都の位置を表したものである。南アフリカ共和国の首都の位置として適切なものを、地図を参考にして、ア～エから一つ選び、その記号を書け。

資料I



- 2 次の資料Ⅱは、2014年における世界の宗教別人口の割合を表したものであり、資料Ⅲは、資料Ⅱ中の 教の宗教儀式の一つで、人々がガンジス川で沐浴している写真である。資料Ⅱ中の に当てはまることばを、書け。

資料Ⅱ

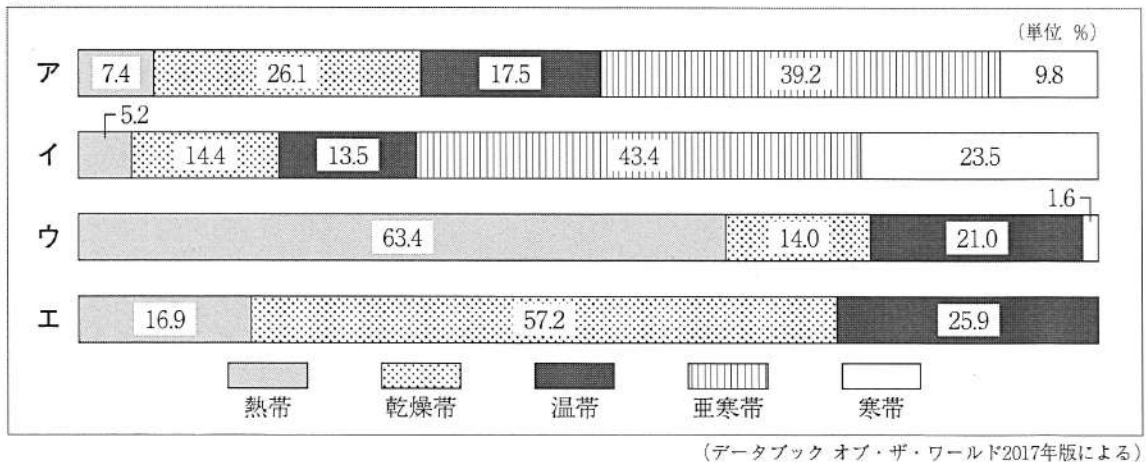


資料Ⅲ

著作権保護のため掲載していません。

- 3 次の資料Ⅳは、世界の気候を熱帯、乾燥帯、温帯、亜寒帯、寒帯の五つの気候帯に区分し、ユーラシア大陸、オーストラリア大陸、北アメリカ大陸、南アメリカ大陸における各気候帯の割合をそれぞれ表したものである。オーストラリア大陸を表したものを、資料中のア～エから一つ選び、その記号を書け。

資料Ⅳ



- 4 右の資料Ⅴは、2013年における、カカオ豆の世界全体の生産量に占める国別の割合を表している。カカオ豆は、コートジボワールやガーナなどのアフリカ大陸の国々を中心に、プランテーションとよばれる大規模な農園で栽培されている。このようにアフリカ大陸の多くの国々でプランテーションによる栽培が始まった理由を、「植民地」と「輸出」の二つの語を使って、簡潔に書け。

資料Ⅴ

国名	割合 (%)
コートジボワール	31.6
ガーナ	18.2
インドネシア	17.0
ナイジェリア	8.0
カメルーン	6.0
ブラジル	5.6
その他	13.6

(世界国勢図会2016/17年版による)

2 はるかさんたちは、社会科の授業の調べ学習で、班ごとにテーマを決めて取り組んだ。次の各班のテーマを見て、下の1～5の問いに答えなさい。

各班のテーマ

A班	世界の古代文明
B班	飛鳥時代から平安時代までの政治
C班	鎌倉時代の将軍と御家人の主従関係
D班	室町時代の戦乱
E班	江戸時代の文化

1 次の資料Iは、A班が世界の古代文明についてまとめた資料の一部であり、資料中の●で示したa～dは、それぞれインダス文明、エジプト文明、中国文明、メソポタミア文明のいずれかの文明がおこった地域を表している。a～dと古代文明の名称の組み合わせとして正しいものを、下のア～エから一つ選び、その記号を書け。

資料I

世界の古代文明

	古代文明のおこった地域と使用された文字
インダス文明	インダス川流域でおこり、インダス文字が用いられた。
エジプト文明	ナイル川流域でおこり、象形文字が用いられた。
中国文明	長江と黄河の流域でおこり、黄河の流域では甲骨文字が用いられた。
メソポタミア文明	チグリス川とユーフラテス川の流域でおこり、くさび形文字が用いられた。

- | | | | | |
|---|--------------|--------------|--------------|------------|
| ア | a - メソポタミア文明 | b - エジプト文明 | c - 中国文明 | d - インダス文明 |
| イ | a - エジプト文明 | b - インダス文明 | c - メソポタミア文明 | d - 中国文明 |
| ウ | a - 中国文明 | b - インダス文明 | c - メソポタミア文明 | d - エジプト文明 |
| エ | a - エジプト文明 | b - メソポタミア文明 | c - インダス文明 | d - 中国文明 |

2 B班は、飛鳥時代から平安時代までの政治について調べた。飛鳥時代から平安時代までに起こった次のア～エのできごとを、年代の古いものから順に並べ、その記号を書け。

- ア 藤原道長が摂政となる。
- イ 中大兄皇子と中臣鎌足らが蘇我氏を倒す。
- ウ 聖武天皇が、地方に国分寺をつくるように命じる。
- エ 平清盛が太政大臣となる。

3 次の資料Ⅱは、C班が鎌倉時代の将軍と御家人の主従関係についてまとめたノートの一部である。資料中の ・ に当てはまることばの組み合わせとして正しいものを、下のア～エから一つ選び、その記号を書け。

資料Ⅱ

【鎌倉時代の将軍と御家人の主従関係】

鎌倉時代には、将軍（鎌倉幕府）と主従関係を結んだ武士は御家人とよばれた。将軍（鎌倉幕府）は、御家人に対して、先祖代々伝わる領地の支配を認め、守護や地頭に任命したり、てがらに応じて新たな領地を与えたりした。このことを という。その一方で、御家人は将軍（鎌倉幕府）に忠誠を誓い、鎌倉や京都などの警備を行ったり、合戦の際には命がけで戦ったりした。このことを という。

- | | | | | | |
|---|--------|--------|---|--------|--------|
| ア | X - 奉公 | Y - 御恩 | イ | X - 管領 | Y - 執権 |
| ウ | X - 御恩 | Y - 奉公 | エ | X - 執権 | Y - 管領 |

4 右の資料Ⅲは、D班が室町時代の戦乱についてまとめるために集めた資料の一部であり、室町幕府8代将軍足利義政に関わりのある慈照寺の銀閣である。室町時代に、8代将軍足利義政のあとつぎ問題などをめぐって、守護大名の山名氏と細川氏の対立が深まることにより起こった戦乱は、多くの守護大名らを巻き込んで、その後10年余りにわたって続いた。この戦乱を何というか、書け。

資料Ⅲ

著作権保護のため掲載していません。

5 右の資料Ⅳは、E班が江戸時代の文化についてまとめるために集めた資料の一部であり、オランダ語で書かれた人体解剖書を杉田玄白らが翻訳した『解体新書』の中の絵である。『解体新書』が出版された18世紀後半の文化について述べた文として正しいものを、次のア～エから一つ選び、その記号を書け。

- ア 本居宣長が、『古事記伝』を書いた。
- イ 兼好法師（吉田兼好）が、『徒然草』を書いた。
- ウ 松尾芭蕉が、『奥の細道』を書いた。
- エ 福沢諭吉が、『学問のすゝ（す）め』を書いた。

資料Ⅳ

著作権保護のため掲載していません。

3 ちひろさんは、日本国憲法について学習し、その内容をノートにまとめた。次の資料Ⅰは、そのノートの一部である。この資料Ⅰを見て、下の1～5の問いに答えなさい。

資料Ⅰ

【日本国憲法】			
前 文		第 6 章	④ <u>司法</u>
第 1 章	① <u>天皇</u>	第 7 章	財政
第 2 章	戦争の放棄	第 8 章	地方自治
第 3 章	② <u>国民の権利及び義務</u>	第 9 章	⑤ <u>改正</u>
第 4 章	③ <u>国会</u>	第 10 章	最高法規
第 5 章	内閣	第 11 章	補則

○分かったこと

- ・前文は、日本国憲法が制定された理由や目的などが書かれている。
- ・日本国憲法の三つの基本原理は、主に第3章までに書かれている。
- ・国の統治のしくみは、主に第4章から第8章に書かれている。

1 資料Ⅰ中の下線部①に「天皇」とあるが、次の資料Ⅱと資料Ⅲは、ちひろさんが日本国憲法に定められた天皇についてまとめるために集めた資料の一部である。資料Ⅱは、「天皇の退位等に関する皇室典範特例法」が成立したことを伝える2017年6月9日の新聞であり、資料Ⅲは、日本国憲法第1条と第2条である。資料Ⅲ中の に当てはまることばを書け。

資料Ⅱ

著作権保護のため掲載していません。

資料Ⅲ

第1条 天皇は、日本国の であり日本国民統合の であつて、この地位は、主権の存する日本国民の総意に基づく。

第2条 皇位は、世襲のものであつて、国会の議決した皇室典範の定めるところにより、これを継承する。

2 資料Ⅰ中の下線部②に「国民の権利」とあるが、日本国憲法では自由権、平等権、社会権などの基本的人権が保障されている。日本国憲法で保障されている社会権のうち、「勤労の権利」と「労働基本権」以外の権利を、次のア～エからすべて選び、その記号を書け。

- ア 黙秘権 イ 教育を受ける権利 ウ 財産権 エ 生存権

3 資料 I 中の下線部③に「国会」とあるが、我が国の国会は、衆議院と参議院の両院からなる二院制をとっている。日本国憲法では、いくつかの事項について、衆議院の優越が認められているが、この衆議院の優越が認められている事項として正しいものを、次のア～エから一つ選び、その記号を書け。

- | | |
|---------|------------|
| ア 予算の議決 | イ 国政に関する調査 |
| ウ 政令の制定 | エ 弾劾裁判所の設置 |

4 資料 I 中の下線部④に「司法」とあるが、日本国憲法は、裁判所が司法権をもつことを定めている。我が国の裁判所の中でも最高裁判所は、「憲法の番人」といわれているが、このようにいわれる理由を、「憲法」と「判断」の二つの語を使って、簡潔に書け。

5 資料 I 中の下線部⑤に「改正」とあるが、次の文は、日本国憲法の改正に必要な手続きを定めた日本国憲法第96条第1項である。文中の ～ に当てはまることばの組み合わせとして正しいものを、下のア～エから一つ選び、その記号を書け。

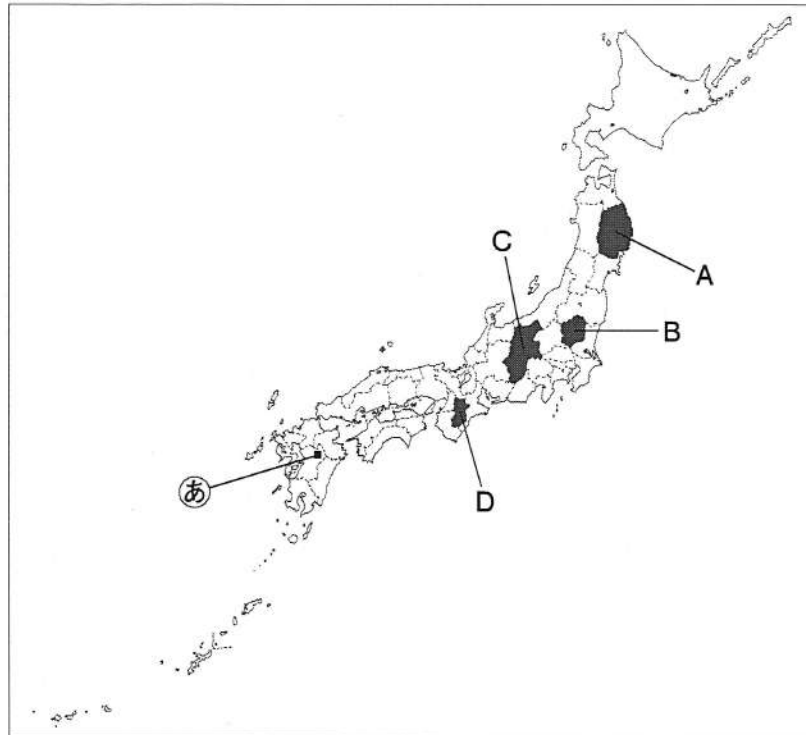
この憲法の改正は、各議院の総議員の の賛成で、国会が、これを発議し、国民に提案してその承認を経なければならない。この承認には、特別の 又は国会の定める選挙の際行はれる投票において、その の賛成を必要とする。

- | | | |
|--------------|----------|------------|
| ア a - 過半数 | b - 国民投票 | c - 3分の2以上 |
| イ a - 過半数 | b - 住民投票 | c - 3分の2以上 |
| ウ a - 3分の2以上 | b - 国民投票 | c - 過半数 |
| エ a - 3分の2以上 | b - 住民投票 | c - 過半数 |

4 次の1～4の問いに答えなさい。

1 次の略地図を見て、下の(1)・(2)の問いに答えよ。

略地図



(1) 次の資料Ⅰは、我が国の2015年におけるレタスの生産量上位3位までの都道府県が、その年に東京都中央卸売市場へ出荷した量を月別に表したものであり、資料Ⅱは、我が国の平均標高の高い上位5位までの都道府県を表したものである。資料Ⅰと資料Ⅱ中の には、同じ都道府県名が入る。この都道府県を、地図中の で示したA～Dから一つ選び、その記号を書け。

資料Ⅰ

著作権保護のため掲載していません。

資料Ⅱ

順位	都道府県名	平均標高 (m)
1	<input type="text" value="X"/>	1 132
2	山梨県	995
3	群馬県	764
4	岐阜県	721
5	富山県	665

(国土地理院の資料による)

(2) 地図中の 印 で示した場所では、火山の爆発や噴火の陥没などによってできた大きなくぼ地がみられる。この地形は何とよばれるか、次のア～エから一つ選び、その記号を書け。

ア カルデラ イ 三角州 ウ フィヨルド エ フォッサマグナ

2 右の資料Ⅲは、稚魚を放流している写真である。我が国では各地で、魚や貝の卵から人工的に育てた稚魚や稚貝を海や川などに放流し、成長したものを漁獲する漁業が行われているが、この漁業を何というか、次のア～エから一つ選び、その記号を書け。

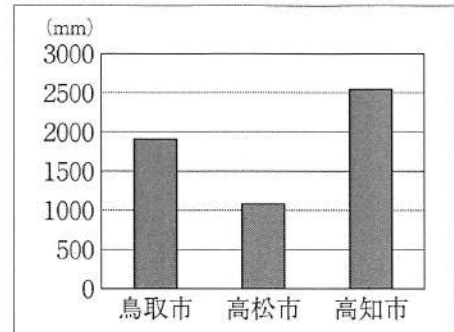
- ア 遠洋漁業 イ 栽培漁業
ウ 沖合漁業 エ 養殖漁業

資料Ⅲ

著作権保護のため掲載していません。

3 右の資料Ⅳは、みずきさんが瀬戸内の気候の特色を調べるために集めた資料の一部であり、鳥取市、高松市、高知市における1981年から2010年までの年降水量の平均を表したものである。資料Ⅳのように、高松市の年降水量の平均が少ない理由を、「季節風」と「山地」の二つの語を使って、簡潔に書け。

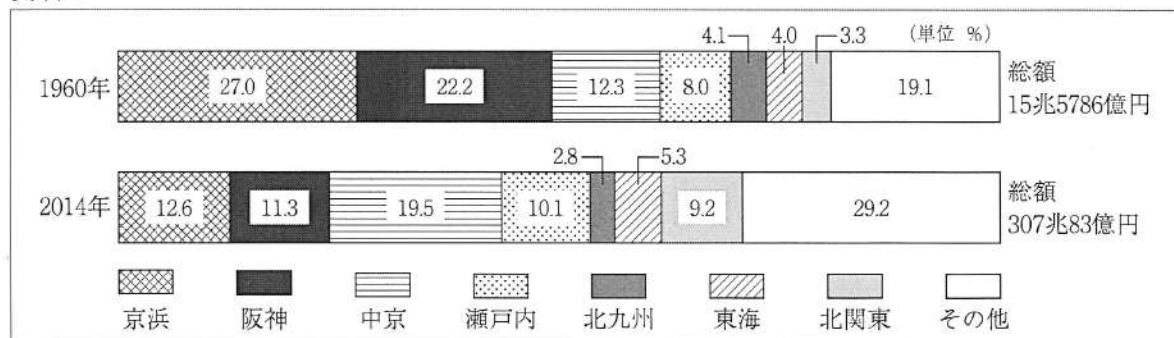
資料Ⅳ



(気象庁の資料による)

4 次の資料Ⅴは、1960年と2014年の我が国の製造品出荷額等における、京浜工業地帯、阪神工業地帯、中京工業地帯、瀬戸内工業地域、北九州工業地帯、東海工業地域、北関東工業地域、その他の地域が占める割合をそれぞれ表している。資料Ⅴから読み取れることについて述べた文として正しいものを、下のア～エから一つ選び、その記号を書け。

資料Ⅴ



(数字でみる日本の100年改訂第6版, データでみる県勢2017年版による)

- ア 1960年の製造品出荷額等の割合と2014年の製造品出荷額等の割合を工業地帯（地域）ごとに比べると、1960年よりも2014年の製造品出荷額等の割合が増えているのは、中京工業地帯、瀬戸内工業地域、北九州工業地帯、東海工業地域である。
- イ 京浜工業地帯と阪神工業地帯の製造品出荷額等の割合を合わせると、1960年は40%を上回っているが、2014年は20%を下回っている。
- ウ 1960年と2014年の北関東工業地域の製造品出荷額等の割合を比べると、2014年は1960年の2.5倍以上になっており、2014年の北関東工業地域の製造品出荷額等の金額は25兆円を超えている。
- エ 2014年の製造品出荷額等の総額は、1960年の製造品出荷額等の総額の30倍以上に増えており、2014年のその他の地域の製造品出荷額等の金額は、100兆円を超えている。

- 5 次の略年表を見て、下の1～5の問いに答えなさい。

略年表

西 暦	で き ご と
1867年	王政復古の発令が発せられる
1873年	① <u>徴兵令が出される</u>
1895年	② <u>下関条約が結ばれる</u>
1927年	③ <u>金融恐慌が起こる</u>
1945年	ポツダム宣言を受け入れる
1956年	国際連合への加盟が認められる
1973年	石油危機が起こる

- 1 年表中の下線部①に「徴兵令が出される」とあるが、この4年後の1877年に西郷隆盛は、明治政府に不満をもつ士族らにおされて反乱を起こした。これに対し、明治政府は徴兵制によって組織した軍隊により反乱を鎮圧した。この反乱を、次のア～エから一つ選び、その記号を書け。

ア 戊辰戦争 イ 日露戦争 ウ 西南戦争 エ 薩英戦争

- 2 年表中のAの時期に我が国で起こった次のア～エのできごとを、年代の古いものから順に並べ、その記号を書け。

ア ほとんどの政党は解散し、大政翼賛会という組織に合流する。
 イ 納税額に関係なく25歳以上のすべての男子に、初めて選挙権が与えられる。
 ウ 貴族院と衆議院の二院からなる帝国議会が招集され、第一回帝国議会が開催される。
 エ 全国各地の自由民権運動の代表者が集まって、国会期成同盟が結成される。

- 3 年表中の下線部②に「下関条約」とあるが、日本と清が結んだ下関条約の内容の一部について、ロシア、フランス、ドイツの三か国は日本に対し、ある勧告を行った。三国干渉とよばれる、この勧告の内容を、「遼東半島」の語を使って、簡潔に書け。

- 4 年表中の下線部③に「金融恐慌が起こる」とあるが、この2年後の1929年に、アメリカのニューヨークの株式市場で株価が大暴落したことをきっかけとして、世界恐慌が起こった。世界恐慌以後の各国のできごととして誤っているものを、次のア～エから一つ選び、その記号を書け。

ア ロシアでは、ソビエト社会主義共和国連邦（ソ連）が成立した。
 イ アメリカでは、ニューディール（新規まき直し）政策が始まった。
 ウ イギリスでは、他国の商品に高い関税を課すブロック経済が行われた。
 エ ドイツでは、ヒトラーが率いる政党が政権を握った。

- 5 年表中のBの時期に我が国で起こったできごととして正しいものを、次のア～エから一つ選び、その記号を書け。

ア 初めてのラジオ放送が開始された。 イ 太陽暦が採用された。
 ウ 教育基本法が制定された。 エ 東京オリンピックが開催された。

6 次の1～4の問いに答えなさい。

1 次の資料Iは、国際連合の安全保障理事会に提案されたある決議案に対する投票結果を表したものである。この決議案は、賛成が多かったが、常任理事国が反対をしたため、否決された。このように、常任理事国は重要な決議案について決議する際、反対することで決議案を否決できる権利をもっているが、この権利を何というか、書け。

資料I

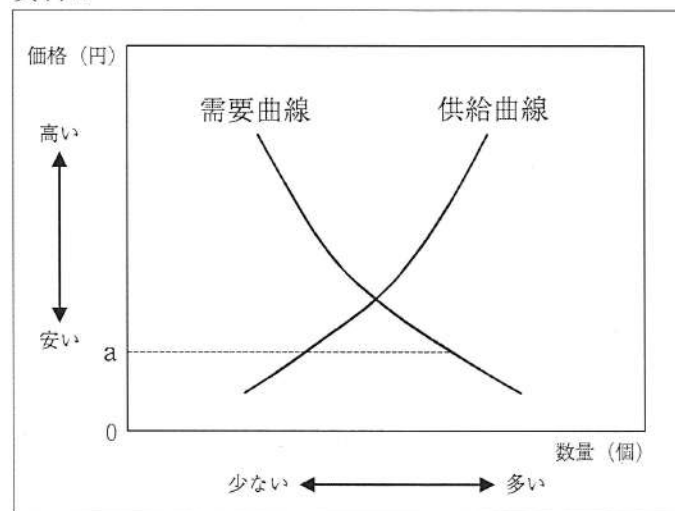
【安全保障理事会の投票結果（2014年5月22日）】

賛成	13か国（内訳：常任理事国3か国，非常任理事国10か国）
反対	2か国（内訳：常任理事国2か国）

（国際連合の資料による）

2 次の資料IIは、自由な競争が行われている場合の、ある商品の需要と供給と価格の関係を表したグラフである。この商品の価格がグラフに示したa円であるとき、グラフをもとにしてその後の価格の変化について述べた下の文中の ・ に当てはまることばの組み合わせとして正しいものを、下のア～エから一つ選び、その記号を書け。

資料II



価格 a 円のとときは、需要量が供給量よりも ため、一般にその後の価格は と考えられる。

- ア X - 多い Y - 上がる イ X - 多い Y - 下がる
 ウ X - 少ない Y - 上がる エ X - 少ない Y - 下がる

3 我が国の中央銀行である日本銀行は、景気の安定を図るため、市場に出まわるお金の量を調節する金融政策を行っている。日本銀行が行う金融政策について述べた文として正しいものを、次のア～エから一つ選び、その記号を書け。

ア 好景気（好況）のときには、一般的に日本銀行は、国債を買うなどして市場に出まわるお金の量を減らそうとする。

イ 好景気（好況）のときには、一般的に日本銀行は、国債を売るなどして市場に出まわるお金の量を増やそうとする。

ウ 不景気（不況）のときには、一般的に日本銀行は、国債を買うなどして市場に出まわるお金の量を増やそうとする。

エ 不景気（不況）のときには、一般的に日本銀行は、国債を売るなどして市場に出まわるお金の量を減らそうとする。

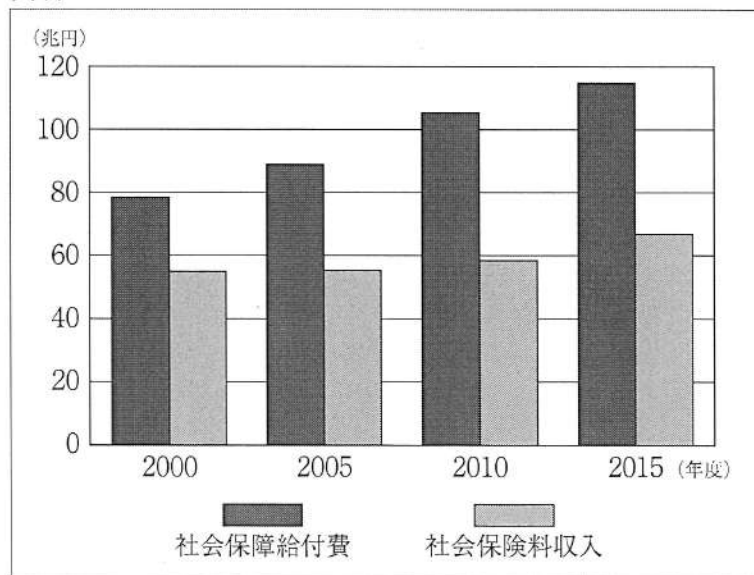
4 次の資料Ⅲは、2000年度から2015年度までの我が国の歳出における社会保障関係費の5年ごとの推移を表したものである。また、資料Ⅳは、2000年度から2015年度までの我が国における社会保障給付費（年金、医療、福祉などへの給付費）と社会保険料収入の5年ごとの推移を表したものである。資料Ⅲのように社会保障関係費が増加した理由として、資料Ⅳをもとに考えられることを、「社会保障給付費」と「社会保険料収入」の二つの語を使って、40字以上60字以内で書け。

資料Ⅲ

年度	2000	2005	2010	2015
社会保障関係費 (兆円)	17.6	20.6	28.2	31.4

(財務省の資料による)

資料Ⅳ



(国立社会保障・人口問題研究所の資料による)