

平成30年度B日程
学力検査問題

⑤

社 会

注 意

- 1 開始の合図があるまで問題用紙を開いてはいけません。
- 2 解答用紙は問題用紙の中に挟んであります。
- 3 問題用紙は表紙を除いて7ページで、問題は1から3まであります。
- 4 開始の合図があったら、まず、問題用紙および解答用紙の所定の欄に
受検番号を書きなさい。
- 5 答えはすべて解答用紙の指定された欄に書きなさい。

受 検 番 号

- 1 次の略年表を見て、下の1～7の問いに答えなさい。

略年表

西 暦	で き ご と
710年	① <u>平城京に都が移る</u>
1192年	源頼朝が征夷大將軍に任命される……………
1600年	関ヶ原の戦いが起こる……………
1603年	徳川家康が征夷大將軍に任命される……………
1867年	徳川慶喜が大政奉還を行う……………
1868年	② <u>戊辰戦争が始まる</u>
1904年	③ <u>日露戦争が始まる</u>
1920年	国際連盟に加盟する……………
1933年	国際連盟を脱退する……………
1972年	④ <u>沖縄が日本に復帰する</u>

- 1 年表中の下線部①に「平城京に都が移る」とあるが、平城京に都が移った8世紀の我が国の文化について述べた文として正しいものを、次のア～エから一つ選び、その記号を書け。

- ア 運慶らによって、東大寺南大門に金剛力士像がつけられた。
- イ 奥州藤原氏によって、平泉に中尊寺金色堂が建てられた。
- ウ 天皇から庶民までの和歌を集めた『万葉集』が成立した。
- エ かな文字を用いた文学作品である『源氏物語』が書かれた。

- 2 年表中のAの時期に我が国で起こった次のア～エのできごとを、年代の古いものから順に並べ、その記号を書け。

- ア 種子島に漂着したポルトガル人が鉄砲を伝える。
- イ 宣教師ザビエルがキリスト教を伝える。
- ウ 明との間で、勘合という合札（割札）を用いた貿易が始まる。
- エ 元の軍勢が、博多湾に入り上陸する。

- 3 次の文は、年表中のBの時期に我が国で、ある人物が行った政治について述べたものである。この人物を、次のア～エから一つ選び、その記号を書け。

幕府の財政の立て直しを図るために、新田開発を行ったり、武士に質素・儉約をすすめたりした。また、目安箱を設置して民衆の意見を政治の参考にした。さらに、公事方御定書を制定して裁判の基準とした。

- ア 徳川家光 イ 徳川吉宗 ウ 田沼意次 エ 松平定信

- 4 次の資料Ⅰは、年表中の下線部②の「戊辰戦争が始まる」と同じ年に出された明治政府の基本方針である。この基本方針を何というか、書け。

資料Ⅰ

- 一 広ク会議ヲ興シ万機公論ニ決スベシ
 一 上下心ヲ一ニシテ盛ニ経綸ヲ行フベシ
 一 官武一途庶民ニ至ル迄各其志ヲ遂ゲ人心ヲシテ
 倦ザラシメン事ヲ要ス
 一 旧来ノ陋習ヲ破リ天地ノ公道ニ基クベシ
 一 智識ヲ世界ニ求メ大ニ皇基ヲ振起スベシ

- 5 次の文は、年表中の下線部③の「日露戦争」について述べたものである。文中の ・ に当てはまることばの組み合わせとして正しいものを、下のア～エから一つ選び、その記号を書け。

日露戦争は、主に朝鮮半島や満州（中国東北部）を戦場としたが、戦争が長引いて日露両国とも戦争の継続が困難になり、アメリカ合衆国大統領の仲立ちによって 条約が結ばれた。この条約で日本は などをロシアからゆずり受けたが、条約の内容に対する不満の声が高まり、東京では日比谷焼き打ち事件が起こった。

- ア X - ポーツマス Y - 樺太の南半分 イ X - 南京 Y - 樺太の南半分
 ウ X - ポーツマス Y - 山東半島 エ X - 南京 Y - 山東半島

- 6 年表中のCの時期のできごととして正しいものを、次のア～エから一つ選び、その記号を書け。
 ア ポーランドに侵攻したドイツにイギリスとフランスが宣戦し、第二次世界大戦が始まった。
 イ オーストリア皇太子夫妻が暗殺されたことをきっかけに、第一次世界大戦が始まった。
 ウ 朝鮮半島で起こった甲午農民戦争をきっかけに、日清戦争が始まった。
 エ 日本軍が奉天付近で鉄道の線路を爆破したことから、満州事変が始まった。

- 7 年表中の下線部④に「沖縄が日本に復帰する」とあるが、次の資料Ⅱは、1972年5月15日の沖縄復帰記念式典の写真である。沖縄は、1951年にサンフランシスコ平和条約を結んでから、1972年に日本に復帰するまで、どのような状況におかれていたか、「統治」の語を使って、簡潔に書け。

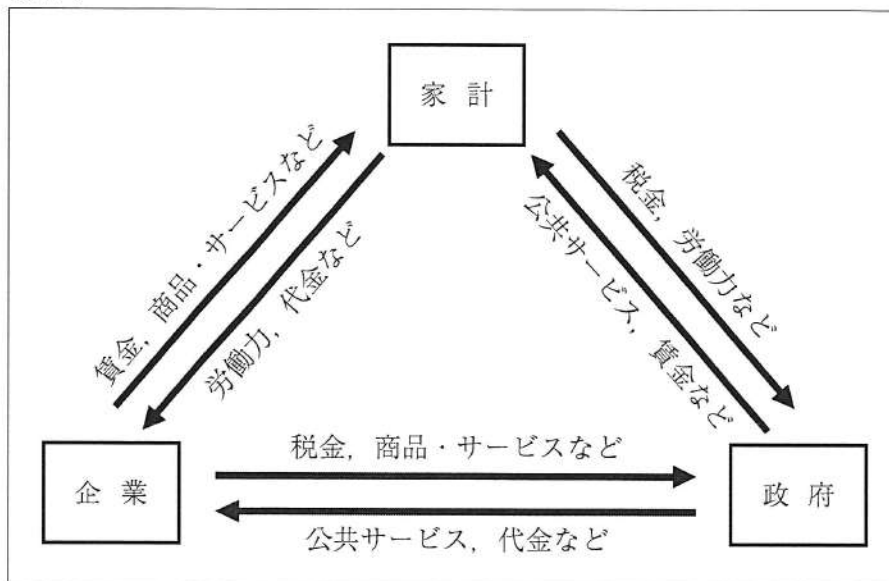
資料Ⅱ

著作権保護のため掲載していません。

2 次の1～5の問いに答えなさい。

1 次の資料Iは、我が国における家計と政府と企業の経済活動について表したものであり、資料中の→印は、それぞれ家計と政府、政府と企業、企業と家計との関係を示している。このことについて、下の(1)・(2)の問いに答えよ。

資料I



(1) 資料中に「企業」とあるが、企業には、私企業と公企業とがあり、私企業の中で最も代表的なものは株式会社である。株式会社とはどのような会社か、「株式」と「資金」の二つの語を使って、簡潔に書け。

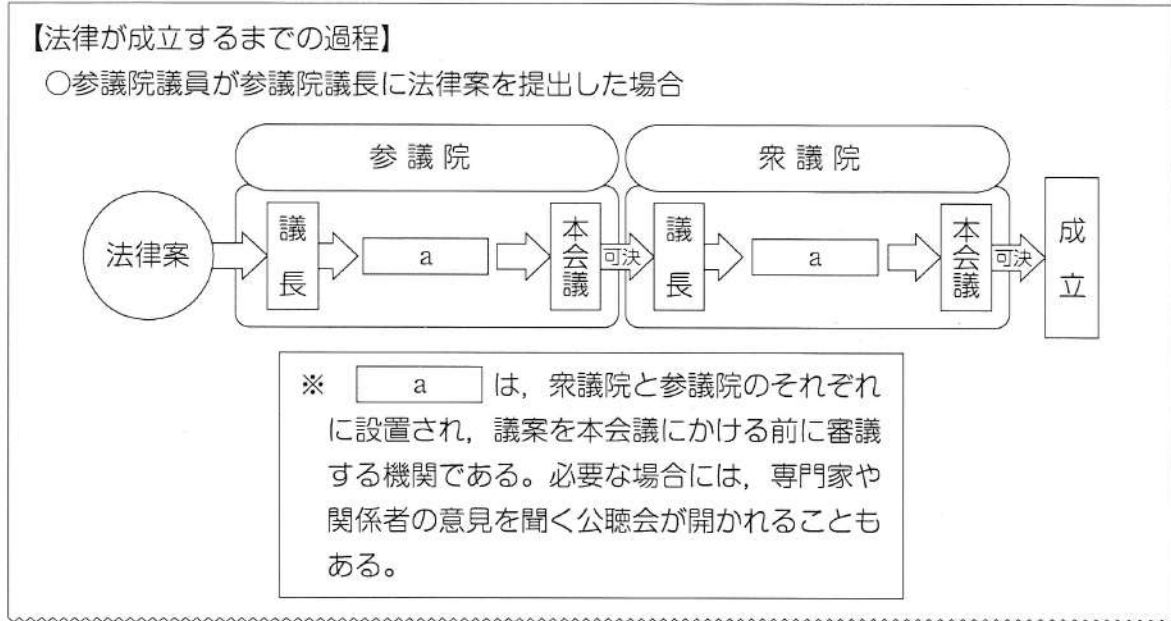
(2) 資料中に「税金」とあるが、我が国の税金の一つである所得税は、個人の所得に課せられ、所得が高い人ほど、税率が高くなる課税方法がとられている。この課税方法を何というか、書け。

2 次の文は、製品の欠陥により消費者が被害を受けた場合に、製造業者等に対して損害賠償を求めることができるとする、1994年に制定された法律の第1条である。この法律を何というか、書け。

この法律は、製造物の欠陥により人の生命、身体又は財産に係る被害が生じた場合における製造業者等の損害賠償の責任について定めることにより、被害者の保護を図り、もって国民生活の安定向上と国民経済の健全な発展に寄与することを目的とする。

- 3 あきらさんは、我が国の法律が成立するまでの過程を調べ、その内容をノートにまとめた。次の資料Ⅱは、そのノートの一部であり、資料中の には、同じことばが入る。この に当てはまることばとして正しいものを、下のア～エから一つ選び、その記号を書け。

資料Ⅱ



- ア 両院協議会 イ 閣議 ウ 委員会 エ 検察審査会

- 4 次の文は、我が国の内閣総理大臣の権限の一つを規定した日本国憲法第68条第1項である。文中の ・ に当てはまることばの組み合わせとして正しいものを、下のア～エから一つ選び、その記号を書け。

内閣総理大臣は、国务大臣を する。但し、その は、国会議員の中から選ばなければならない。

- ア X - 指名 Y - 過半数 イ X - 指名 Y - 3分の2
 ウ X - 任命 Y - 3分の2 エ X - 任命 Y - 過半数

- 5 右の資料Ⅲは、カンボジアのメコン川に架けられた橋がデザインされた切手である。カンボジアの主要幹線道路の一つである国道7号線は、我が国の支援により、メコン川に橋が架けられてつながった。このように、発展途上国を中心とした国々に対して、先進国の政府が、資金の援助や技術の協力等を行う政府開発援助の略称を、次のア～エから一つ選び、その記号を書け。

資料Ⅲ

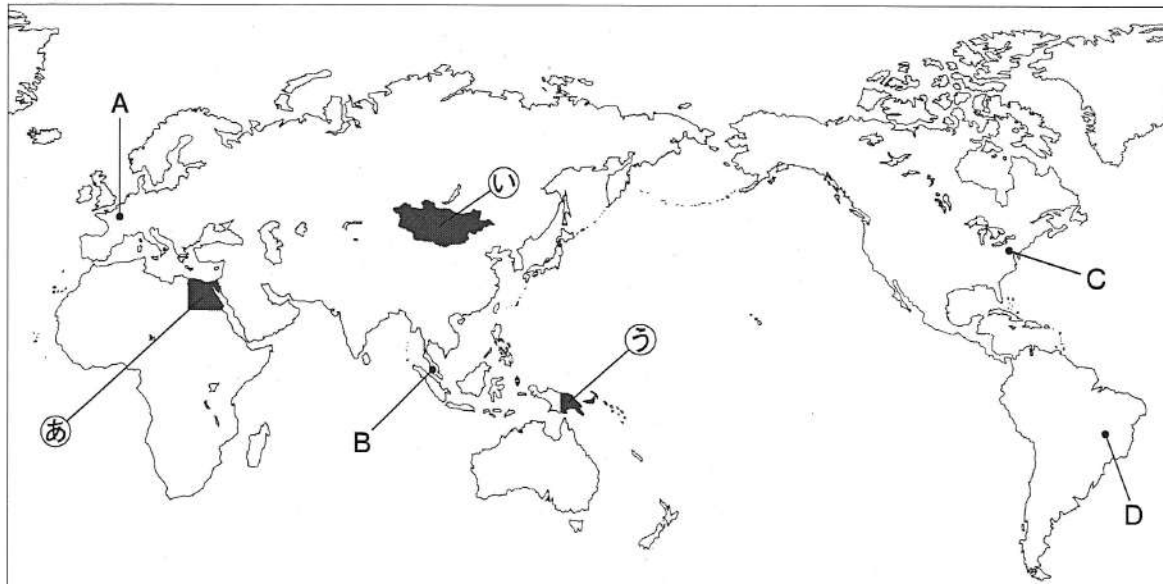
著作権保護のため掲載していません。

- ア NPO イ ODA ウ PKO エ WTO

3 次の1～4の問いに答えなさい。

1 次の略地図Iを見て、下の(1)・(2)の問いに答えよ。

略地図I



(1) 次の資料Iのa～cはそれぞれ、地図中の●で示した①～⑤のいずれかの国の自然や文化と結び付いた伝統的な住居である。資料中のa～cの住居と地図中の●で示した①～⑤の国の組み合わせとして正しいものを、下のA～Eから一つ選び、その記号を書け。

資料I

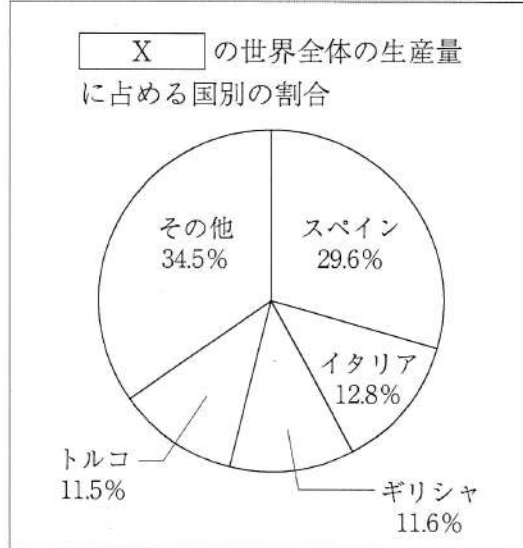
a	b	c
著作権保護のため掲載していません。	著作権保護のため掲載していません。	著作権保護のため掲載していません。
羊毛のフェルトで作られた移動に便利な住居	木材で作られた風通しのよい高床式の住居	日干しレンガで作られた住居

ア a - ① b - ② c - ③ イ a - ④ b - ⑤ c - ①
 ウ a - ② b - ① c - ④ エ a - ⑤ b - ④ c - ②

(2) 地図中の・印で示した都市A～Dはそれぞれ、アメリカ合衆国、フランス、ブラジル、マレーシアのいずれかの国の首都を表している。地図中の・印で示した都市A～Dの現地時刻で、最も早く2018年1月1日午前0時をむかえたのはどこか、地図中の・印で示した都市A～Dから一つ選び、その記号を書け。ただし、現地時刻は、その都市で使っている、その国の標準時を基準として考えるものとする。

- 2 次の資料Ⅱは、2014年における、夏の高温や乾燥に強いある作物の世界全体の生産量に占める国別の割合を表している。資料中の に当てはまる作物として正しいものを、下のア～エから一つ選び、その記号を書け。

資料Ⅱ

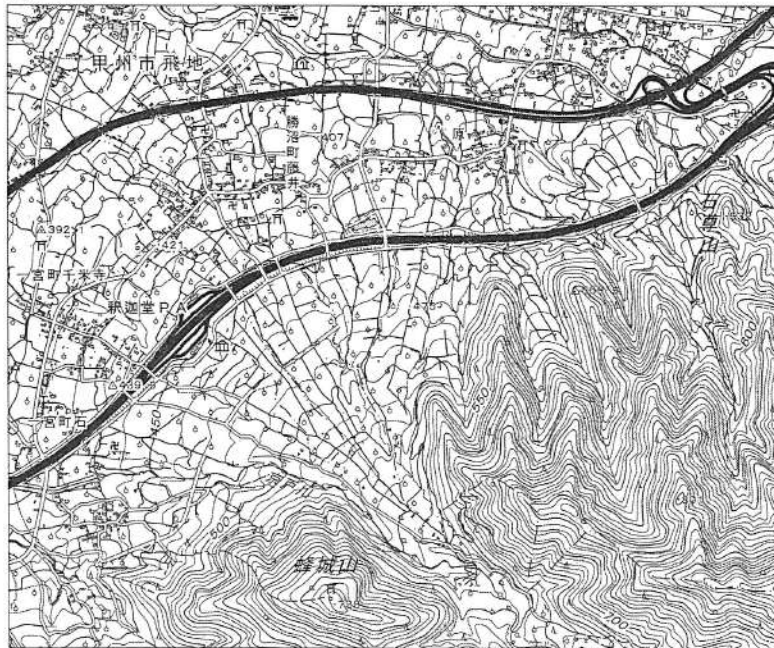


(世界国勢図会2017/18年版による)

- ア オリーブ イ バナナ ウ カカオ エ タロイも

- 3 次の資料Ⅲは、甲府盆地の中の、ある地域の地形図の一部であり、扇状地といわれる地形がみられ、果樹栽培がさかんであることがわかる。扇状地は、比較的あらい砂や小石などが堆積してできるという特徴がある。扇状地のこの特徴が果樹栽培に適している理由を、簡潔に書け。

資料Ⅲ



(国土地理院2万5千分の1の地形図「石和」(平成28年発行)による)

4 次の略地図Ⅱを見て，下の(1)・(2)の問いに答えよ。

略地図Ⅱ



(1) 次の文は，ある都道府県の特徴について述べたものである。この都道府県を，地図中の●で示したA～Dから一つ選び，その記号を書け。

日本有数の菊の生産地で，夜間に照明を当てて花の咲く時期をコントロールする栽培方法を取り入れている。織物機械の製造の技術을土台にして自動車生産を始め，現在では組み立て工場や，部品をつくる工場もたくさん集まっている。また，工業生産額（製造品出荷額等）の総額は，1977年から30年以上にわたって全国1位である。

(2) 地図中の——→で示した海流は暖流を，——▷で示した海流は寒流をそれぞれ模式的に表している。地図中の——→で示した暖流と，——▷で示した寒流のそれぞれの名称の組み合わせとして正しいものを，次のア～エから一つ選び，その記号を書け。

- | | | |
|---|-------------|-------------|
| ア | 暖流－黒潮（日本海流） | 寒流－リマン海流 |
| イ | 暖流－対馬海流 | 寒流－親潮（千島海流） |
| ウ | 暖流－黒潮（日本海流） | 寒流－親潮（千島海流） |
| エ | 暖流－対馬海流 | 寒流－リマン海流 |