

平成31年度 A 日程  
学力検査問題

②

社 会

注 意

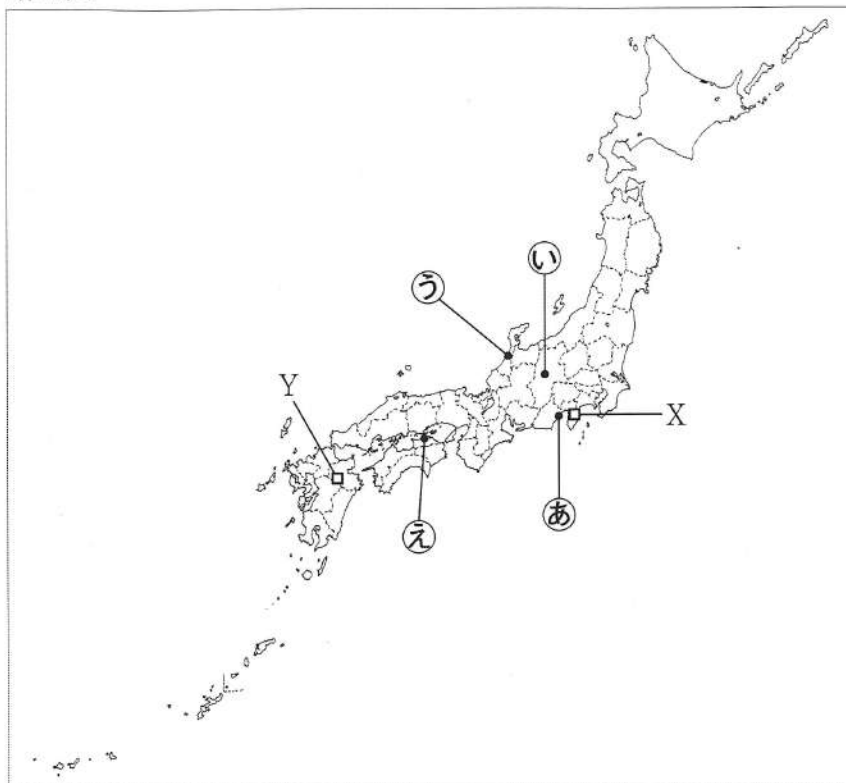
- 1 開始の合図があるまで問題用紙を開いてはいけません。
- 2 解答用紙は問題用紙の中に挟んであります。
- 3 問題用紙は表紙を除いて11ページで、問題は **1** から **6** まであります。
- 4 開始の合図があったら、まず、問題用紙および解答用紙の所定の欄に  
**受検番号**を書きなさい。
- 5 答えはすべて**解答用紙の指定された欄**に書きなさい。

受 検 番 号

--

- 1 次の1～3の問いに答えなさい。  
 1 次の略地図を見て、下の(1)～(3)の問いに答えよ。

略地図



- (1) 地図中の□印Xで示した地点を緯度と経度で表すと、北緯35度、東経139度である。地球を球体と考えたとき、□印Xの地点に対して、地球の中心を通る正反対側の地点の緯度、経度として適切なものを、次のア～エから一つ選び、その記号を書け。

- |               |                |
|---------------|----------------|
| ア 南緯35度、西経41度 | イ 南緯35度、西経139度 |
| ウ 南緯55度、西経41度 | エ 南緯55度、西経139度 |

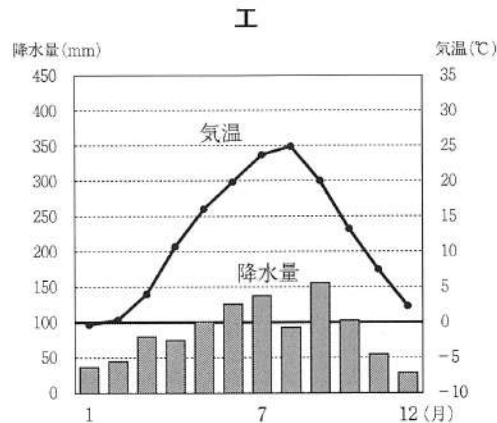
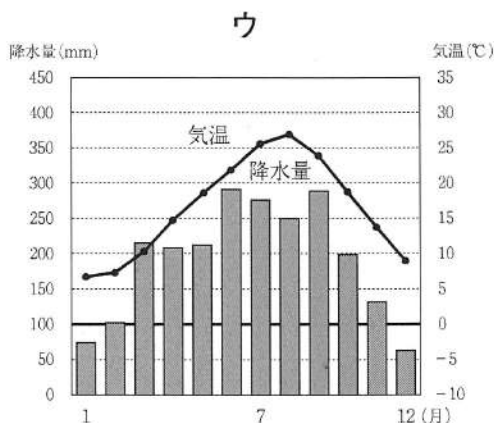
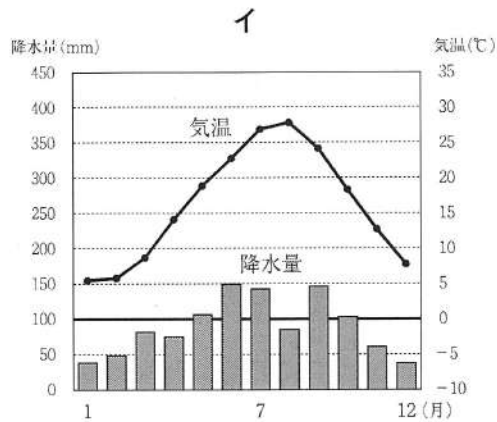
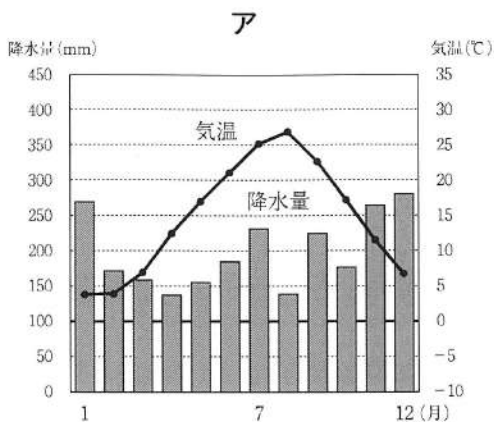
- (2) 右の資料Iは、地図中の□印Yで示した地点にある八丁原発電所である。この発電所では、くじゅう連山の火山のエネルギーを利用した発電が行われている。この発電所で行われている発電方法を何というか。次のア～エから一つ選び、その記号を書け。

- |        |        |
|--------|--------|
| ア 水力発電 | イ 火力発電 |
| ウ 地熱発電 | エ 風力発電 |

資料I

著作権保護のため掲載していません。

- (3) 次のア～エのグラフは、それぞれ地図中の・印㉠～㉤で示したいずれかの都市における、気温と降水量を表したものである。地図中の・印㉠で示した都市の気温と降水量を表したグラフを、次のア～エから一つ選び、その記号を書け。



(理科年表平成30年版による)

- 2 次の資料Ⅱは、全国を北海道、東北、関東、中部、近畿、中国・四国、九州の七つの地方に区分し、各地方の2010年における耕地の総面積と農家総数をそれぞれ表したものである。資料中の耕地の総面積と農家総数との関係からわかる北海道地方の農業の特徴を、簡潔に書け。

資料Ⅱ

地方	耕地の総面積 (ha)	農家総数 (戸)
北海道	1 156 000	51 200
東北	870 700	406 300
関東	614 470	412 600
中部	661 900	555 000
近畿	294 900	308 300
中国・四国	396 300	409 900
九州	598 100	384 700

(データブック オブ・ザ・ワールド 2013年版による)

3 次の資料Ⅲの a～d は、2017年における成田国際空港、千葉港、名古屋港、博多港のいずれかの輸出総額、輸出総額に占める割合の高い上位3品目をそれぞれ表したものである。資料中の a～d に当てはまる港の組み合わせとして正しいものを、下のア～エから一つ選び、その記号を書け。

資料Ⅲ

a		b		c		d	
輸出総額 117 421億円		輸出総額 19 268億円		輸出総額 111 679億円		輸出総額 7 871億円	
輸出品目	割合(%)	輸出品目	割合(%)	輸出品目	割合(%)	輸出品目	割合(%)
自動車	24.5	自動車	27.2	金(非貨幣用)	7.7	石油製品	22.4
自動車部品	18.3	集積回路	10.6	科学光学機器	6.0	鉄鋼	19.0
内燃機関	4.3	タイヤ・チューブ	7.2	集積回路	4.0	有機化合物	16.6

(日本国勢協会 2018/19年版による)

(注) 内燃機関…自動車のエンジンなど。 科学光学機器…光ファイバー、メガネ、写真機用レンズなど。  
有機化合物…石油化学工業などでつくられる薬品類。

- |   |          |          |            |            |
|---|----------|----------|------------|------------|
| ア | a - 博多港  | b - 名古屋港 | c - 千葉港    | d - 成田国際空港 |
| イ | a - 名古屋港 | b - 千葉港  | c - 成田国際空港 | d - 博多港    |
| ウ | a - 千葉港  | b - 名古屋港 | c - 博多港    | d - 成田国際空港 |
| エ | a - 名古屋港 | b - 博多港  | c - 成田国際空港 | d - 千葉港    |

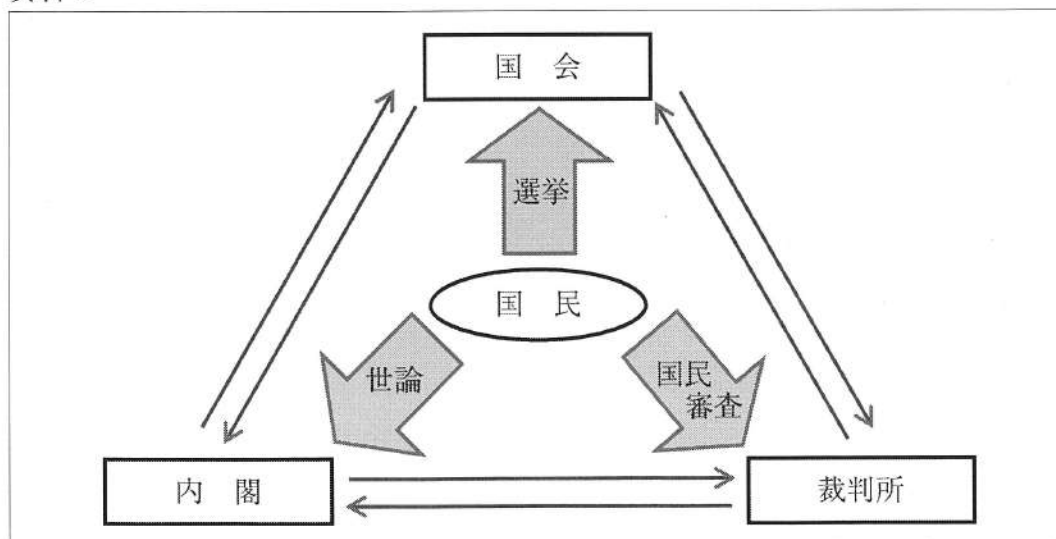
2 ちひろさんたちは、公民的分野の調べ学習で、班ごとにテーマを決めて取り組んだ。次の各班のテーマを見て、下の1～3の問いに答えなさい。

各班のテーマ

A班	三権分立のしくみ
B班	基本的人権
C班	地方公共団体

1 次の資料Ⅰは、A班がまとめた資料の一部であり、我が国の三権分立のしくみについて表したものである。このことについて、下の(1)～(3)の問いに答えよ。

資料Ⅰ



(1) 資料Ⅰ中に「選挙」とあるが、国会議員を選ぶ現在の選挙制度について述べた文として誤っているものを、次のア～エから一つ選び、その記号を書け。

- ア 参議院議員は、3年ごとに定数の半数が改選される。
- イ 衆議院議員の被選挙権は、満18歳以上の日本国民に認められている。
- ウ 参議院議員選挙の比例代表制では、全国を一つの単位として選挙が行われる。
- エ 衆議院議員選挙の小選挙区制では、各選挙区から一人の議員が選出される。

(2) 資料Ⅰ中に「内閣」とあるが、内閣の役割について述べた文として正しいものを、次のア～エから一つ選び、その記号を書け。

- ア 最高裁判所の長官を指名する。
- イ 法律を制定する。
- ウ 弾劾裁判所を設置する。
- エ 条例を制定する。

(3) 資料Ⅰは、我が国の三権分立のしくみを表したものであるが、権力を分立させるしくみは、世界の国々で取り入れられている。このように、国の権力を分立させるねらいを、「権力」と「国民の権利」の二つの語を使って、簡潔に書け。

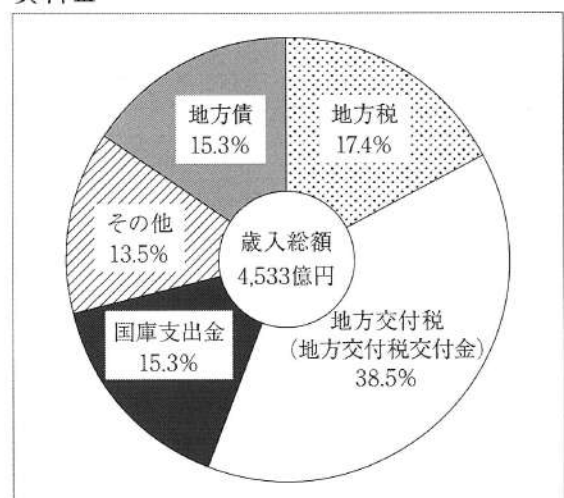
2 次の資料Ⅱは、B班が自分たちのテーマと関連のある日本国憲法の条文を書き写したものである。この条文に基づいて、労働者が不利な条件で働かされないことがないように、労働時間や賃金などの労働条件に関する法律が1947年に公布された。この法律を何というか、書け。

#### 資料Ⅱ

- 第27条① すべて国民は、勤労の権利を有し、義務を負ふ。
- ② 賃金、就業時間、休息その他の勤労条件に関する基準は、法律でこれを定める。
  - ③ 児童は、これを酷使してはならない。

3 右の資料Ⅲは、C班が地方公共団体の財政についてまとめた資料の一部であり、2016年度における高知県の歳入総額と、その項目別割合を表したものである。資料中の国庫支出金について述べた文として正しいものを、次のア～エから一つ選び、その記号を書け。

#### 資料Ⅲ



(総務省「平成28年度地方財政統計年報」による)

- ア 地方公共団体の自主財源であり、自動車税などがふくまれる。
- イ 地方公共団体の依存財源であり、外部から借り入れた資金である。
- ウ 地方公共団体間の税収の格差を減らすために、国から配分される。
- エ 公共事業や義務教育などに必要な経費を、国が使いみちを特定して支給する。

- 3 ゆうきさんは、我が国と外国との関わりの歴史について調べ、その内容をノートにまとめた。次の資料 I は、そのノートの一部である。この資料 I を見て、下の 1～5 の問いに答えなさい。

資料 I

時代	外国との関わり
① 奈良時代	唐の文化の影響を受けた国際色豊かな天平文化が栄えた。
平安時代	② 遣唐使の派遣がとりやめられた後、日本の風土や生活に合った国風文化が発展した。
③ 鎌倉時代	元の皇帝フビライの要求を幕府が拒否し、元軍が二度にわたって襲来した。
室町時代	ポルトガル人によって鉄砲が伝わり、④ <u>ヨーロッパ</u> との貿易が盛んになった。
江戸時代	⑤ <u>東南アジアとの貿易</u> が盛んに行われ、東南アジアに移住する日本人が増えたが、江戸幕府は1635年に日本人の海外渡航と帰国を禁止した。

- 1 資料 I 中の下線部①の「奈良時代」の我が国のようすについて述べた文として正しいものを、次のア～エから一つ選び、その記号を書け。

- ア 国ごとに守護を、荘園や公領ごとに地頭をおいた。
- イ 一向宗が急速に広まり、信者たちが一向一揆を起こした。
- ウ 墾田永年私財法が制定され、土地の開墾が奨励された。
- エ 諸藩の蔵屋敷が大阪におかれ、年貢米や特産品が集まった。

- 2 資料 I 中の下線部②に「遣唐使の派遣がとりやめられた」とあるが、遣唐使の派遣がとりやめられた後のできごとについて述べた文として正しいものを、次のア～エから一つ選び、その記号を書け。

- ア 藤原頼通によって平等院鳳凰堂が建てられた。
- イ 聖徳太子が推古天皇の摂政となった。
- ウ 天武天皇が天皇中心の国家建設を進めた。
- エ 坂上田村麻呂が征夷大將軍に任命された。

- 3 資料 I 中の下線部③の「鎌倉時代」の文化について述べた文として正しいものを、次のア～エから一つ選び、その記号を書け。

- ア 観阿弥と世阿弥が能を大成した。
- イ 清少納言が『枕草子』を書いた。
- ウ 狩野永徳が『唐獅子図屏風』を描いた。
- エ 鴨長明が『方丈記』を書いた。

- 4 資料Ⅰ中の下線部④に「ヨーロッパ」とあるが、16世紀のヨーロッパでは、ルターらによって宗教改革が始まった。この宗教改革の動きに対し、カトリック教会においても改革が行われたが、改革の中心となったイエズス会は、カトリックの勢力回復を目ざしてどのような活動を行ったか、「アジア」の語を使って、簡潔に書け。
- 5 資料Ⅰ中の下線部⑤に「東南アジアとの貿易」とあるが、次の資料Ⅱは、海外に渡航することを認める証書であり、徳川家康が江戸幕府の将軍であったときに発行されたものである。このように江戸幕府は1635年まで、東南アジアを中心とした国や地域と貿易を行う大名や商人に、海外に渡航することを認める証書を与えた。この証書をもつ船によって行われた外国との貿易を何というか、書け。

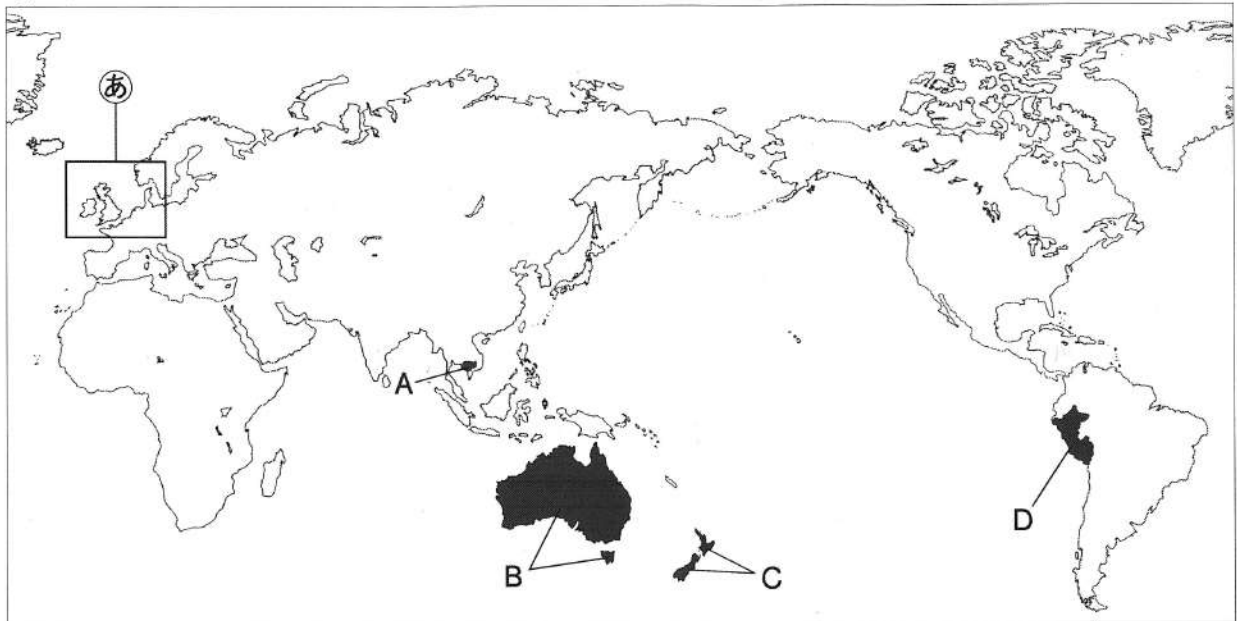
資料Ⅱ

著作権保護のため掲載していません。

4 次の1～4の問いに答えなさい。

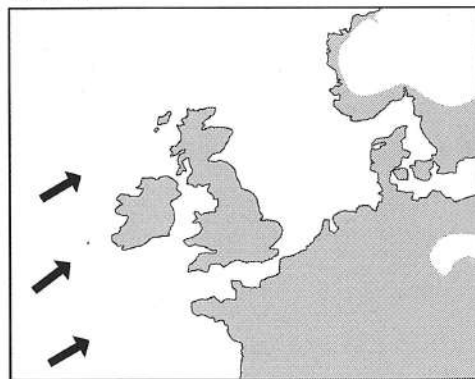
1 次の略地図を見て、下の(1)・(2)の問いに答えよ。

略地図



(1) 次の資料Iは、略地図中の  で示した㊸の部分拡大したものである。資料中の  で示した地域は、この地域と同緯度にあるユーラシア大陸の東岸の地域に比べて、冬の気候が温暖である。これは、北大西洋海流と、その上空を一年中ほぼ一定の方向に吹く資料中の  で示した風が関係している。この風を何というか、書け。

資料I



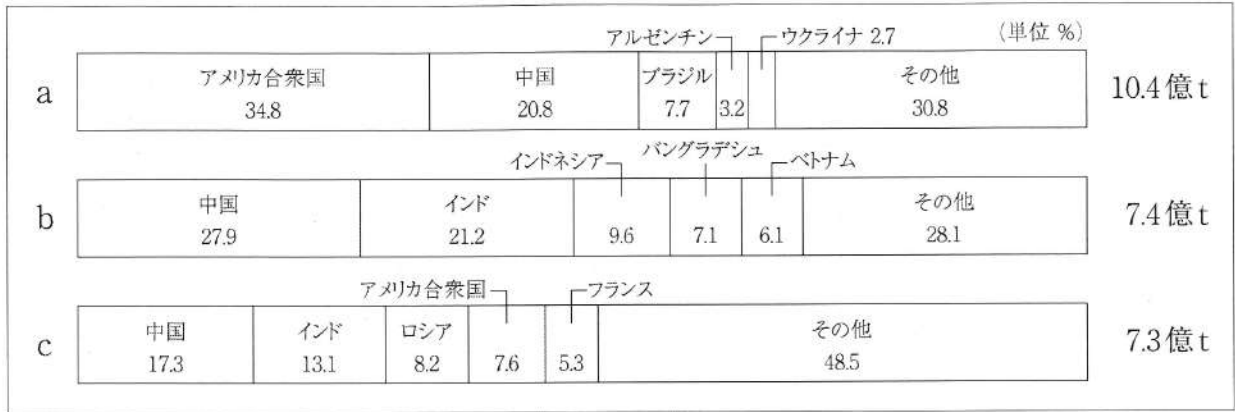
(2) 次の文は、ある国の特徴について述べたものである。この国を、略地図中の  で示したA～Dから一つ選び、その記号を書け。

この国は、環太平洋造山帯に位置する。主な産業としては、羊などの牧畜があげられる。イギリスなどヨーロッパからの移住者の子孫が人口の多数を占めるが、先住民のマオリの文化と、移住してきた人々の子孫の文化の、両方を尊重する政策がとられている。近年では、中国や日本との貿易が盛んになってきている。



2 次の資料Ⅱ中の a～c は、2014年の世界における米、小麦、とうもろこしのいずれかの穀物の生産量と生産量に占める国別の割合をそれぞれ表したものである。資料中の a～c に当てはまる穀物の組み合わせとして正しいものを、下のア～エから一つ選び、その記号を書け。

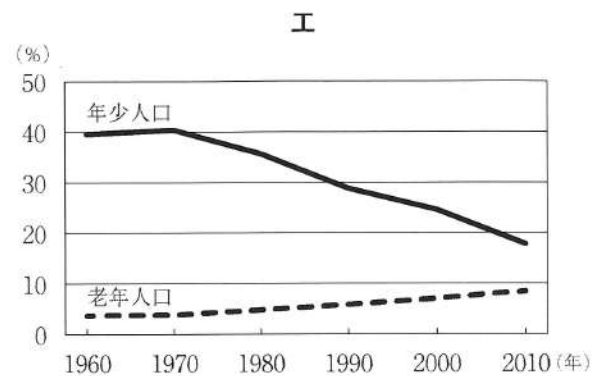
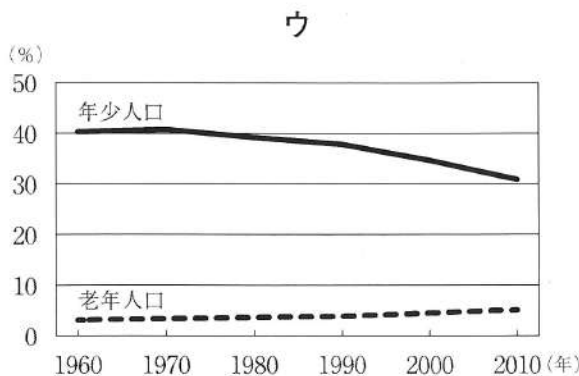
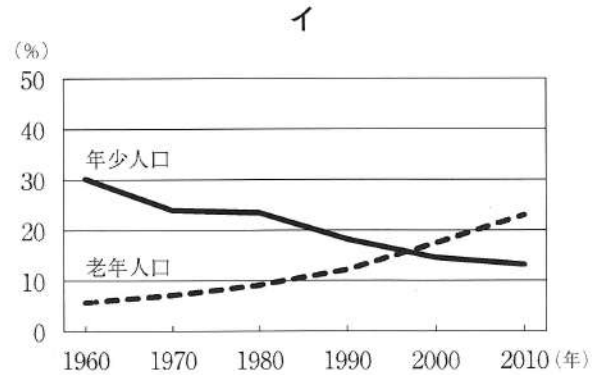
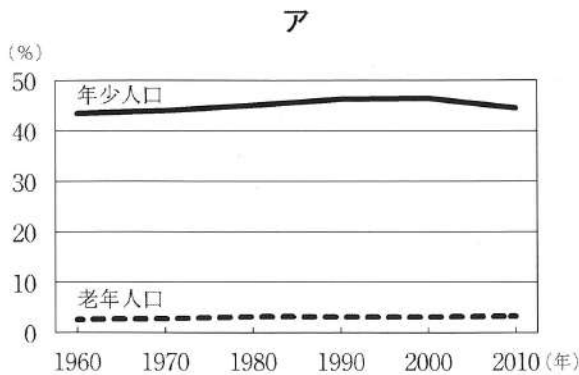
資料Ⅱ



(データブック オブ・ザ・ワールド 2018年版による)

- |   |            |            |            |
|---|------------|------------|------------|
| ア | a - 小麦     | b - とうもろこし | c - 米      |
| イ | a - 小麦     | b - 米      | c - とうもろこし |
| ウ | a - とうもろこし | b - 小麦     | c - 米      |
| エ | a - とうもろこし | b - 米      | c - 小麦     |

3 次のア～エのグラフはそれぞれ、1960年から2010年における、インド、エチオピア、中国、日本のいずれかの年少人口（15歳未満）と老年人口（65歳以上）の総人口に占める割合の推移を10年ごとに表したものである。日本を表したグラフを、次のア～エから一つ選び、その記号を書け。



(世界の統計2018年版による)

- 4 次の資料Ⅲは、タイの1985年と2014年における輸出総額と輸出額の上位3位までの輸出品を表したものであり、資料Ⅳは、2014年のタイにおける自動車生産台数と販売台数とを表したものである。資料Ⅲのように、2014年には自動車はタイの代表的な輸出品となっている理由として、資料Ⅳをもとに考えられることを、「生産」と「輸出」の二つの語を使って、30字以上50字以内で書け。

資料Ⅲ

(単位 百万ドル)			(単位 百万ドル)		
1985年			2014年		
輸出総額		7 122	輸出総額		227 573
順位	輸出品	輸出額	順位	輸出品	輸出額
1	米	830	1	機械類	69 517
2	野菜	678	2	自動車	25 796
3	魚介類	615	3	石油製品	11 381

(世界国勢図会1990/91, 2016/17年版による)

資料Ⅳ

(単位 万台)

タイの自動車生産台数	188
自動車生産台数のうち、日本の自動車メーカーが生産した台数	152
タイ国内での自動車販売台数	88
タイ国内での自動車販売台数のうち、日本の自動車メーカーの販売台数	62

(経済産業省の資料による)

- 5 次の1～4の問いに答えなさい。

- 1 右の資料Ⅰは、現在の日本銀行本店である。世界の国々は、一般的に、中央銀行という特別な働きをする銀行をもっている。我が国の中央銀行は日本銀行であるが、日本銀行の役割を述べた文として誤っているものを、次のア～エから一つ選び、その記号を書け。

資料Ⅰ

著作権保護のため掲載していません。

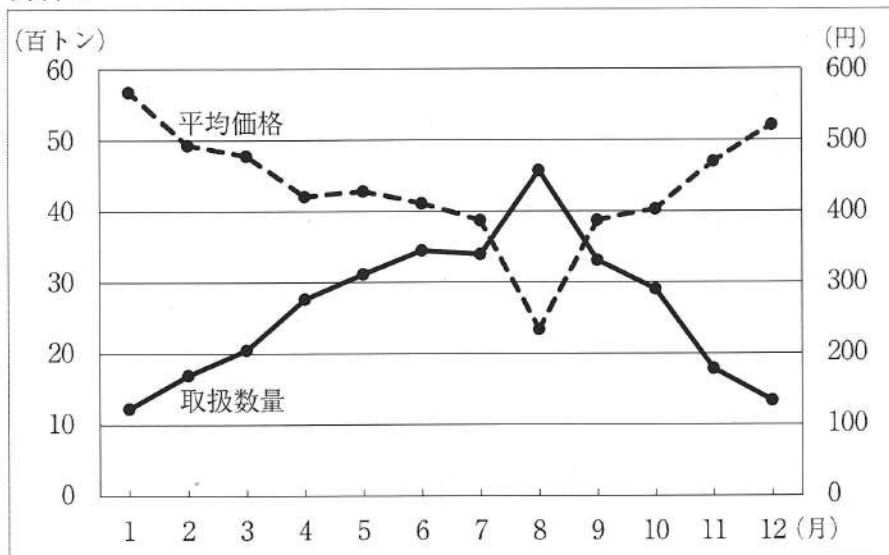
- ア 日本銀行券とよばれる紙幣を発行する。  
 イ 一般の銀行に対して資金の貸し出しと預金の受け入れを行う。  
 ウ 公共料金を認可する。  
 エ 国の資金の出し入れを扱う。

- 2 次の文は、我が国の独占禁止法に関して述べたものである。文中の  に当てはまることばを書け。

独占禁止法は、企業の公正で自由な競争をうながし、消費者の権利を守るために制定されたものである。この法律を実際に運用する行政機関として  が設置されている。

- 3 次の資料Ⅱは、2016年における東京都中央卸売市場の「なす」の取扱数量と1キログラムあたりの平均価格を表したものである。価格には、農産物などの変動しやすいものと、工業製品などの変動しにくいものがあるが、資料からわかる「なす」の平均価格の動きの特徴を、取扱数量の変化と関連付けて、簡潔に書け。

資料Ⅱ



(東京都中央卸売市場の資料による)

- 4 右の資料Ⅲは、1992年に成立した国際平和協力法に基づき、国際連合の平和維持活動の一環としてカンボジアに派遣された我が国の自衛隊員が活動している写真である。国際連合は、紛争地域の平和の実現のために、停戦や選挙を監視するなどの平和維持活動を行っているが、この平和維持活動の略称を、次のア～エから一つ選び、その記号を書け。

資料Ⅲ

著作権保護のため掲載していません。

ア TPP      イ PKO      ウ NPT      エ NPO

6 次の略年表を見て、下の1～5の問いに答えなさい。

略年表

西 暦	で き ご と
1858年	<input type="text" value="X"/> 条約が結ばれる
1914年	第一次世界大戦が始まる
1927年	金融恐慌が起こる
1931年	満州事変が起こる
1945年	① <u>G H Qによる民主化政策が始まる</u>
1972年	② <u>沖縄が日本に復帰する</u>

1 次の文は、年表中の  条約について述べたものである。  に当てはまる条約の名称を書け。

アメリカと結んだこの条約によって、函館・神奈川（横浜）・長崎・新潟・兵庫（神戸）の5港が貿易港として開かれた。この条約は、関税自主権を日本に認めないなど、日本にとって不平等な条約であった。

2 年表中のAの時期の我が国のできごとを述べた文として誤っているものを、次のア～エから一つ選び、その記号を書け。

- ア 全国水平社が結成された。                      イ 女性の参政権が認められた。  
ウ 治安維持法が制定された。                      エ 関東大震災が起こった。

3 年表中のBの時期に起こった次のア～エのできごとを、年代の古いものから順に並べ、その記号を書け。

- ア アメリカ軍が沖縄へ上陸し、沖縄戦が始まる。  
イ 日本が国際連盟を脱退する。  
ウ 日独伊三国同盟が結ばれる。  
エ 北京郊外での日本軍と中国軍との衝突をきっかけに、日中戦争が始まる。

4 年表中の下線部①に「G H Qによる民主化政策が始まる」とあるが、G H Qによる民主化政策として正しいものを、次のア～エから一つ選び、その記号を書け。

- ア 教育勅語の発布                                      イ 国家総動員法の制定  
ウ 版籍奉還の実施                                      エ 財閥の解体

5 年表中の下線部②の「沖縄が日本に復帰する」と同じ年に、我が国はある国との国交を正常化した。この国の名称を次のア～エから一つ選び、その記号を書け。

- ア ソビエト社会主義共和国連邦                      イ 大韓民国  
ウ 中華人民共和国                                      エ 朝鮮民主主義人民共和国