

# 令和3年度A日程 学力検査問題

②

## 社 会

### 注 意

- 1 開始の合図があるまで問題用紙を開いてはいけません。
- 2 解答用紙は問題用紙の中に挟んであります。
- 3 問題用紙は表紙を除いて11ページで、問題は **1** から **6** まであります。
- 4 開始の合図があったら、まず、問題用紙および解答用紙の所定の欄に  
**志願先高等学校名と受検番号**を書きなさい。
- 5 答えはすべて**解答用紙の指定された欄**に書きなさい。

志願先高等学校名

受 検 番 号

高等学校

- 1 れんさんたちは、公民的分野の調べ学習で、班ごとにテーマを決めて取り組んだ。次の各班のテーマを見て、下の1～4の問いに答えなさい。

各班のテーマ

A班	基本的人権の尊重
B班	地方自治
C班	国会
D班	選挙

- 1 A班は、基本的人権の尊重について調べた。基本的人権について述べたX・Yの文について、その正誤の組み合わせとして正しいものを、下のア～エから一つ選び、その記号を書け。

X：日本国憲法では、プライバシーの権利や知る権利などの新しく主張されるようになった人権について、明確に定めている。

Y：日本国憲法では、国民は、自由や権利を濫用してはならないのであって、常に公共の福祉のために利用する責任を負うと定めている。

- ア X - 正 Y - 正      イ X - 正 Y - 誤  
 ウ X - 誤 Y - 正      エ X - 誤 Y - 誤

- 2 次の資料Iは、B班が我が国の地方自治についてまとめたノートの一部である。資料中の  ・  に当てはまることばの組み合わせとして正しいものを、下のア～エから一つ選び、その記号を書け。

資料I

【地方自治】

○地方自治は、地域の身近な問題を解決するために、住民一人一人が政治に直接参加できる場面が多い。このことから、地方自治は「の学校」と呼ばれている。

○1999年に成立した法律によって地方自治法が大幅に改正され、国と地方公共団体の役割分担が明確にされるとともに、地方が自主的に進められる仕事を拡大して、地方公共団体の権限を強める  のしくみが整えられていった。

- ア a - 地方議会      b - 中央集権      イ a - 民主主義      b - 中央集権  
 ウ a - 地方議会      b - 地方分権      エ a - 民主主義      b - 地方分権

- 3 C班は、国会について調べた。我が国の国会では、予算の先議や内閣総理大臣の指名など、いくつかの事項で衆議院の優越が認められている。このように衆議院が参議院より強い権限をもっている理由を、任期と解散の有無について説明したうえで、簡潔に書け。

4 D班は、選挙について調べた。このことについて、次の(1)・(2)の問いに答えよ。

(1) 選挙権は、我が国では満18歳以上のすべての国民に認められている。このように、納税額や財産などによって制限されず、一定の年齢以上のすべての国民に選挙権が認められるという選挙の原則を何というか、書け。

(2) 次の資料Ⅱは、D班がまとめた資料の一部であり、北海道、鳥取県、島根県の有権者数、参議院選挙区選出議員の定数、議員一人当たりの有権者数について、2013年7月21日時点と2016年7月10日時点とをそれぞれ表したものである。2013年7月の参議院議員選挙において、鳥取県と島根県は異なる選挙区として選挙が実施されたが、2016年7月の参議院議員選挙では、鳥取県と島根県は合区となり、一つの選挙区として実施された。この資料から読み取れることについて述べた文として正しいものを、下のア～エから一つ選び、その記号を書け。

資料Ⅱ

2013年7月21日			
(単位 人)			
	有権者数	参議院選挙区選出議員の定数	議員一人当たりの有権者数
北海道	4 598 957	4	1 149 739
鳥取県	482 192	2	241 096
島根県	587 809	2	293 905

2016年7月10日			
(単位 人)			
	有権者数	参議院選挙区選出議員の定数	議員一人当たりの有権者数
北海道	4 613 374	6	768 896
鳥取県	483 895	2	535 029
島根県	586 162		

(総務省の資料による)

ア 2013年と2016年における有権者数を比べると、北海道、鳥取県、島根県のいずれも、2013年より2016年の方が多い。

イ 2013年と2016年における議員一人当たりの有権者数を比べると、北海道は、2013年より2016年の方が多い。

ウ 2013年における一票の格差は、北海道と島根県の間で5倍以上である。

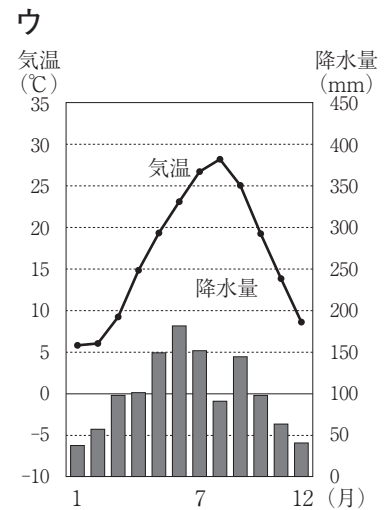
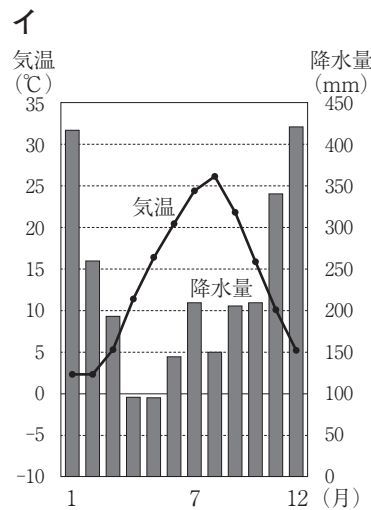
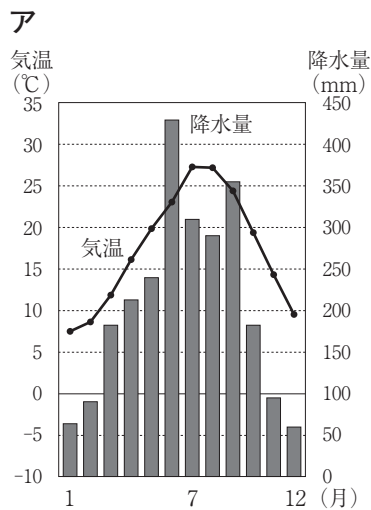
エ 2016年における一票の格差は、北海道と鳥取県・島根県の合区の間で1.5倍以下である。

2 次の略地図を見て、下の1～4の問いに答えなさい。

略地図



1 次のア～ウのグラフはそれぞれ、地図中の・印①～④で示したいずれかの都市における、気温と降水量を表したものである。地図中の・印①～④で示した都市の気温と降水量を表したグラフを、ア～ウからそれぞれ一つ選び、その記号を書け。

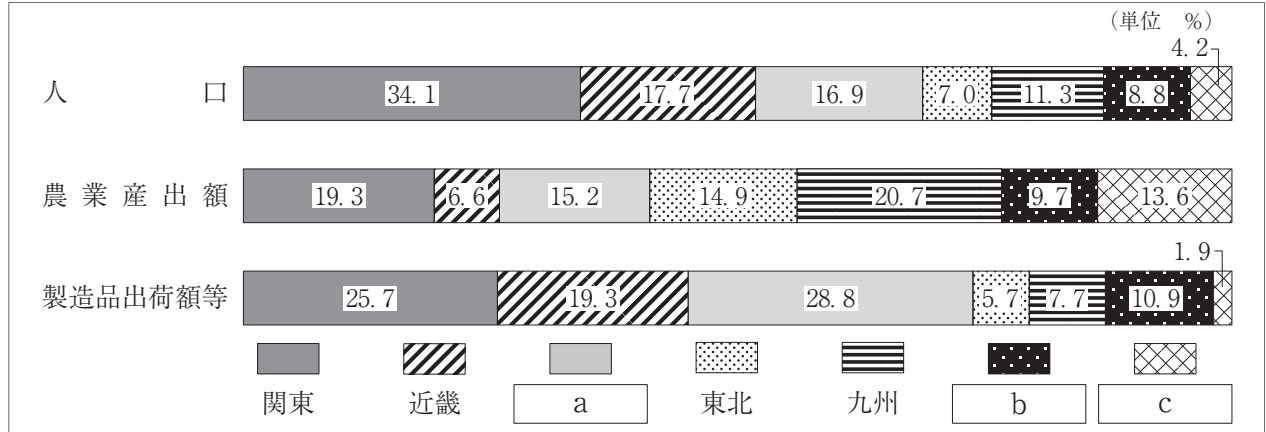


(理科年表令和2年版による)

2 地図中の で示した東日本の太平洋沖は豊かな漁場となっているが、その理由を、関係する海流の名称を使って、簡潔に書け。

3 次の資料Ⅰは、全国を北海道、東北、関東、中部、近畿、中国・四国、九州の七つの地方に区分し、人口、農業産出額、製造品出荷額等について、2017年における各地方が占める割合をそれぞれ表したものである。資料中の  ～  に当てはまる地方の組み合わせとして正しいものを、下のア～エから一つ選び、その記号を書け。

資料Ⅰ



(データでみる県勢2020年版による)

- |   |           |           |           |
|---|-----------|-----------|-----------|
| ア | a - 北海道   | b - 中部    | c - 中国・四国 |
| イ | a - 中部    | b - 北海道   | c - 中国・四国 |
| ウ | a - 中部    | b - 中国・四国 | c - 北海道   |
| エ | a - 中国・四国 | b - 北海道   | c - 中部    |

4 略地図中の ■ 印Xは、岡山県のある地域を示している。次の資料Ⅱは、その地域の地形図の一部である。この地形図を見て、下の(1)・(2)の問いに答えよ。

資料Ⅱ



(国土地理院2万5千分の1の地形図「備前瀬戸」(平成8年発行)による)

- (1) 資料Ⅱ中の・印Aの標高と・印Bの標高の差は何mか、書け。
- (2) 資料Ⅱ中の・印Cから・印Dまでの地形図上の長さは3cmである。実際の直線距離は何mか、書け。

- 3 はるかさんは、我が国の各時代の土地について調べ、その内容をノートにまとめた。次の資料Ⅰは、そのノートの一部である。この資料Ⅰを見て、下の1～5の問いに答えなさい。

資料Ⅰ

時代	土地について調べたこと
奈良時代	6歳以上の男女に口分田が与えられた。人々には① <u>さまざまな税</u> や労役などが課され、重い負担となった。朝廷は、743年に墾田永年私財法を出して、開墾した土地の所有を認めた。
平安時代	農民が土地を離れ逃亡したり、戸籍をいつわったりして、戸籍は実態と合わなくなり、班田収授の実施が困難となった。藤原氏などの② <u>貴族</u> の荘園が各地で増えた。
③ <u>鎌倉時代</u>	地頭による荘園の支配が進んだ。稲と麦の二毛作が始まるなど、農業技術が進歩し生産が高まった。
室町時代	南北朝時代には、守護が荘園の年貢の半分を取り立てて力を強めた。室町時代の後半になると、④ <u>戦国大名</u> が登場し、領国を支配するようになった。
安土桃山時代	田畑の面積や収穫高、耕作者などを調べる⑤ <u>太閤検地</u> が行われた。

- 1 資料Ⅰ中の下線部①に「さまざまな税」とあるが、右の資料Ⅱは、奈良時代の税制度についてまとめたものである。資料Ⅱ中の  ～  に当てはまることばの組み合わせとして正しいものを、次のア～エから一つ選び、その記号を書け。

資料Ⅱ

種類	負担の主な内容
租	<input type="text" value="a"/>
調	<input type="text" value="b"/>
庸	<input type="text" value="c"/>

- ア a - 地方の特産物                      b - 稲の収穫量の約3%                      c - 麻の布  
 イ a - 稲の収穫量の約3%                      b - 地方の特産物                      c - 麻の布  
 ウ a - 稲の収穫量の約3%                      b - 麻の布                      c - 地方の特産物  
 エ a - 麻の布                      b - 地方の特産物                      c - 稲の収穫量の約3%
- 2 資料Ⅰ中の下線部②に「貴族」とあるが、平安時代の貴族たちによって、唐風の文化を日本の風土や生活に合わせようとする工夫がされ、国風文化が発達した。この国風文化が栄えた時期に、『源氏物語』を著した人物は誰か、書け。
- 3 資料Ⅰ中の下線部③に「鎌倉時代」とあるが、元寇の後、鎌倉幕府は、生活が困窮した御家人を救済するために徳政令を出した。この徳政令はどのようなことを定めた法令か、「領地」の語を使って、簡潔に書け。

4 資料 I 中の下線部④の「戦国大名」が、自分の領国を支配するために独自につくった法律を何というか。次のア～エから一つ選び、その記号を書け。

ア 分国法      イ 公事方御定書      ウ 大宝律令      エ 武家諸法度

5 資料 I 中の下線部⑤の「太閤検地」について述べた文として誤っているものを、次のア～エから一つ選び、その記号を書け。

- ア 検地の調査結果は、検地帳に記録された。
- イ 農民は、石高に応じた年貢を納めることになった。
- ウ 武士は、自分の領地の石高に応じて軍事上の負担を負うことになった。
- エ 荘園の領主である公家や寺社は、もっていた土地の権利をすべて認められた。

4 次の 1～3 の問いに答えなさい。

1 次の資料 I は、「G A F A」と呼ばれるアメリカの巨大な情報技術関連企業 4 社の収益が拡大していることを伝える 2020 年 10 月 31 日の新聞である。これらの企業のように、多くの国に拠点をもち、世界的規模で活動している企業を何というか。最も適切なものを、下のア～エから一つ選び、その記号を書け。

資料 I

著作権保護のため掲載していません。

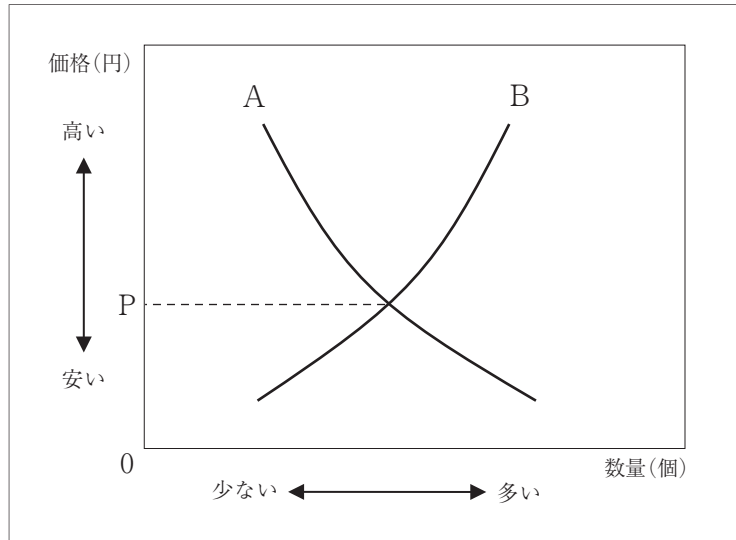
ア 株式会社      イ 多国籍企業      ウ ベンチャー企業      エ 公企業

2 クーリング・オフ制度は、商品を契約したり購入したりするときに、消費者を守るしくみの一つである。訪問販売や電話勧誘販売の場合、クーリング・オフ制度により、消費者はどのようなことができるか。「契約」と「期間」の二つの語を使って、簡潔に書け。

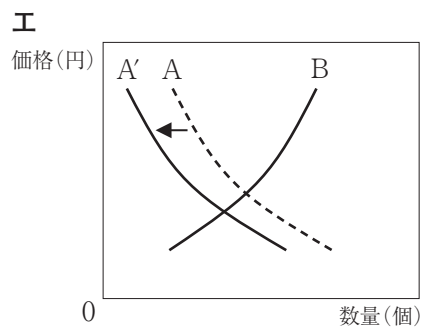
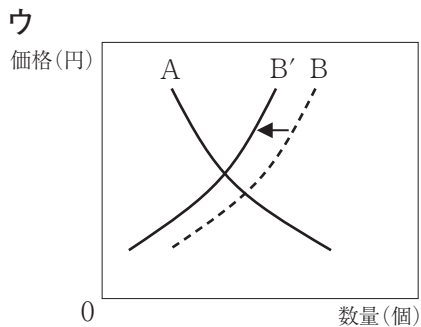
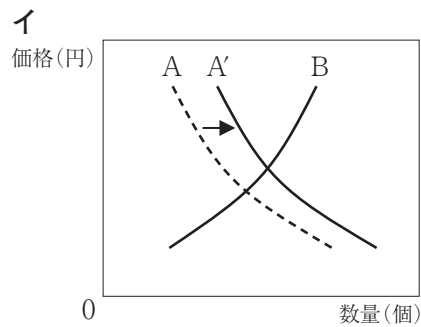
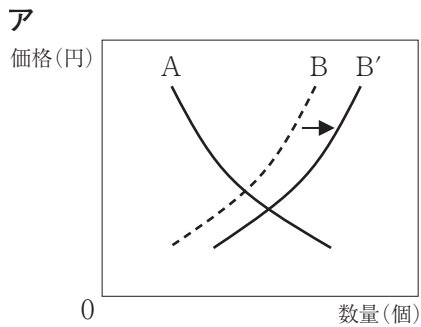


- 3 次の資料Ⅱは、自由な競争が行われている場合の、ある商品の需要と供給と価格の関係を表したグラフであり、Aは需要曲線を、Bは供給曲線を示している。このグラフを見て、下の(1)・(2)の問いに答えよ。

資料Ⅱ



- (1) 資料Ⅱ中の価格P円は、市場で実際に取り引きされるときに価格である市場価格のうち、需要量と供給量が一致した価格を示している。このP円のように、需要量と供給量が一致する価格を何というか、書け。
- (2) ある商品の生産量が増加した場合、資料Ⅱのグラフにおいて、一般的にAまたはBのいずれかの曲線が移動し、価格P円の値が変わる。このときのグラフの変化を示したものとして最も適切なものを、次のア～エから一つ選び、その記号を書け。ただし、グラフ中のA'はAの、B'はBの移動後の曲線を示している。

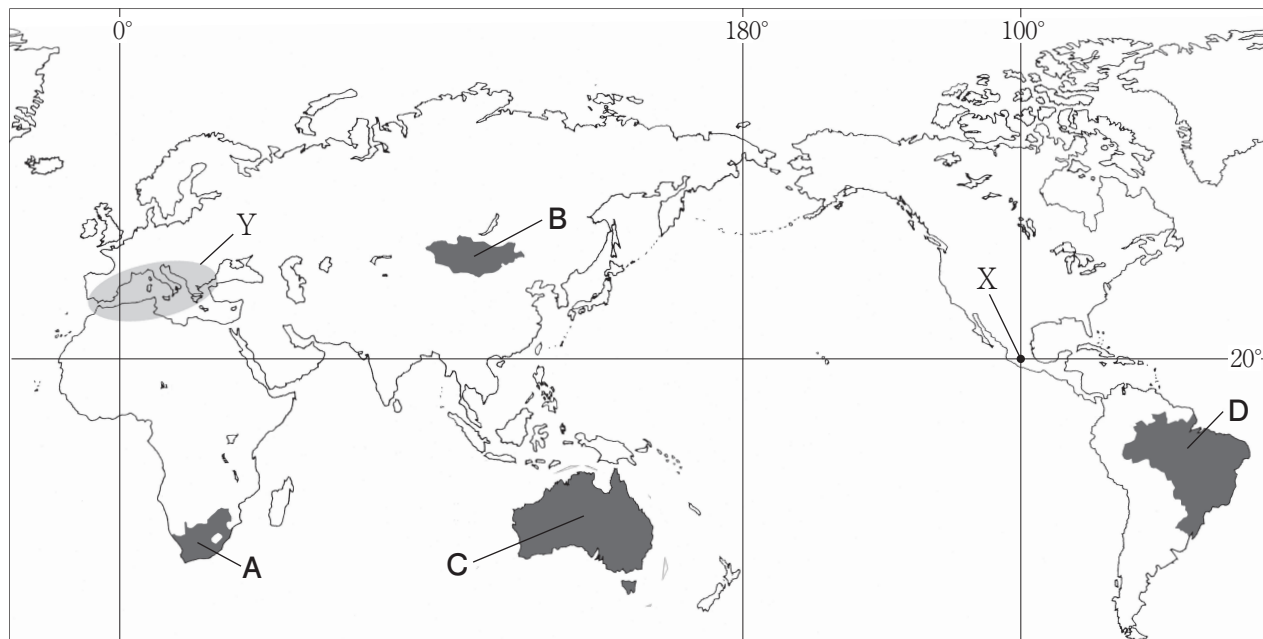




5 次の1～3の問いに答えなさい。

1 次の略地図を見て、下の(1)～(3)の問いに答えよ。

略地図



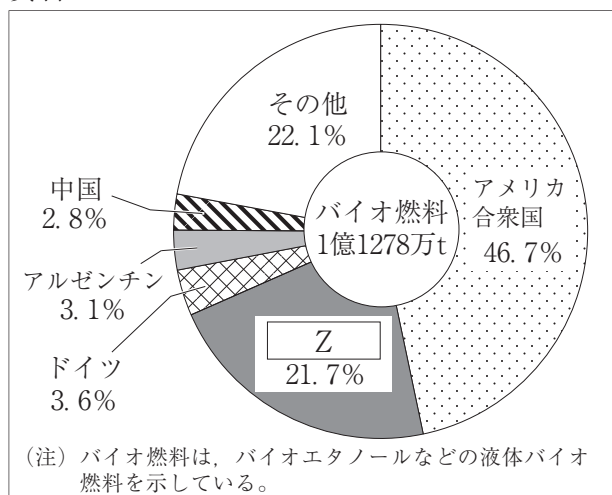
(1) 地図中の・印Xは、メキシコのある地点を示している。地図中の・印Xの位置の緯度、経度を、次のア～エから一つ選び、その記号を書け。

- ア 北緯20度，東経100度      イ 北緯20度，西経100度  
 ウ 南緯20度，東経100度      エ 南緯20度，西経100度

(2) 地図中の●で示したYの地域の沿岸部では、夏の乾燥に強いオリーブなどを栽培し、雨の多い冬には小麦などを栽培する農業が行われてきた。このような農業を何というか、書け。

(3) 次の資料Iは、2017年におけるバイオ燃料の総生産量と国別生産割合を表したものであり、資料IIは、2017年におけるバイオ燃料の原料となるさとうきび、とうもろこしの生産量の上位5か国を表したものである。資料中の□Zに当てはまる国を、地図中の●で示したA～Dから一つ選び、その記号を書け。

資料I



(世界国勢図会2020/21年版による)

資料II

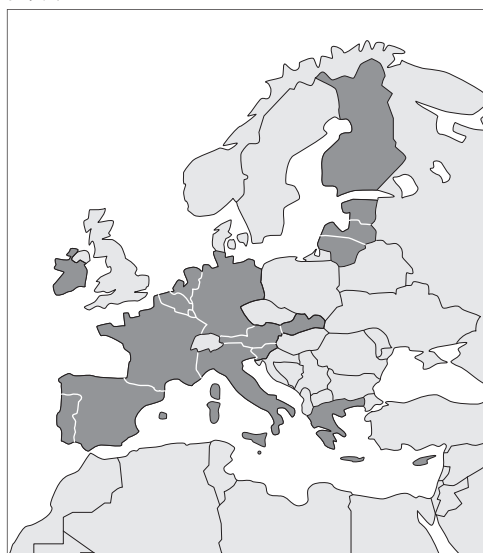
(単位 千t)

さとうきび			とうもろこし		
順位	国名	生産量	順位	国名	生産量
1	Z	758 646	1	アメリカ合衆国	397 603
2	インド	306 069	2	中国	259 071
3	中国	104 404	3	Z	97 911
4	タイ	101 870	4	アルゼンチン	49 476
5	パキスタン	83 333	5	ウクライナ	24 669

(世界国勢図会2020/21年版による)

2 右の資料Ⅲ中の●で示した国は、2020年におけるEU加盟国の中で共通の通貨が用いられている国である。EU加盟国の共通通貨の名称を書いたうえで、共通通貨の導入が人々の移動にどのような影響を与えたか、簡潔に書け。

資料Ⅲ



(外務省の資料による)

3 次の資料Ⅳは、2018年におけるコートジボワール、日本、ニュージーランド、マレーシアの輸出総額、輸入総額と、輸出額、輸入額のそれぞれ上位3位までの輸出品、輸入品とを表したものである。この資料から読み取れることについて述べた文として誤っているものを、下のア～エから一つ選び、その記号を書け。

資料Ⅳ

(単位 百万ドル)						(単位 百万ドル)					
コートジボワール						日本					
輸出総額		11 821	輸入総額		10 971	輸出総額		738 201	輸入総額		748 218
順位	輸出品	輸出額	順位	輸入品	輸入額	順位	輸出品	輸出額	順位	輸入品	輸入額
1	カカオ豆	3 253	1	機械類	1 640	1	機械類	261 659	1	機械類	174 970
2	野菜・果実	1 399	2	原油	1 545	2	自動車	152 429	2	原油	80 582
3	石油製品	1 003	3	自動車	698	3	精密機械	38 173	3	液化天然ガス	42 801
(単位 百万ドル)						(単位 百万ドル)					
ニュージーランド						マレーシア					
輸出総額		39 839	輸入総額		43 736	輸出総額		247 324	輸入総額		217 358
順位	輸出品	輸出額	順位	輸入品	輸入額	順位	輸出品	輸出額	順位	輸入品	輸入額
1	酪農品	9 977	1	機械類	9 813	1	機械類	104 414	1	機械類	83 029
2	肉類	5 350	2	自動車	5 997	2	石油製品	18 079	2	石油製品	20 864
3	木材	3 205	3	原油	2 934	3	液化天然ガス	9 944	3	プラスチック	7 538

(世界国勢図会2020/21年版による)

- ア 輸出総額が輸入総額を上回っている国は、コートジボワールとマレーシアである。
- イ 機械類の輸出額が輸入額を上回っている国は、日本とマレーシアである。
- ウ 輸入総額に占める原油の輸入額の割合が最も小さい国は、コートジボワールである。
- エ 石油製品の輸出額は、マレーシアがコートジボワールの15倍以上である。

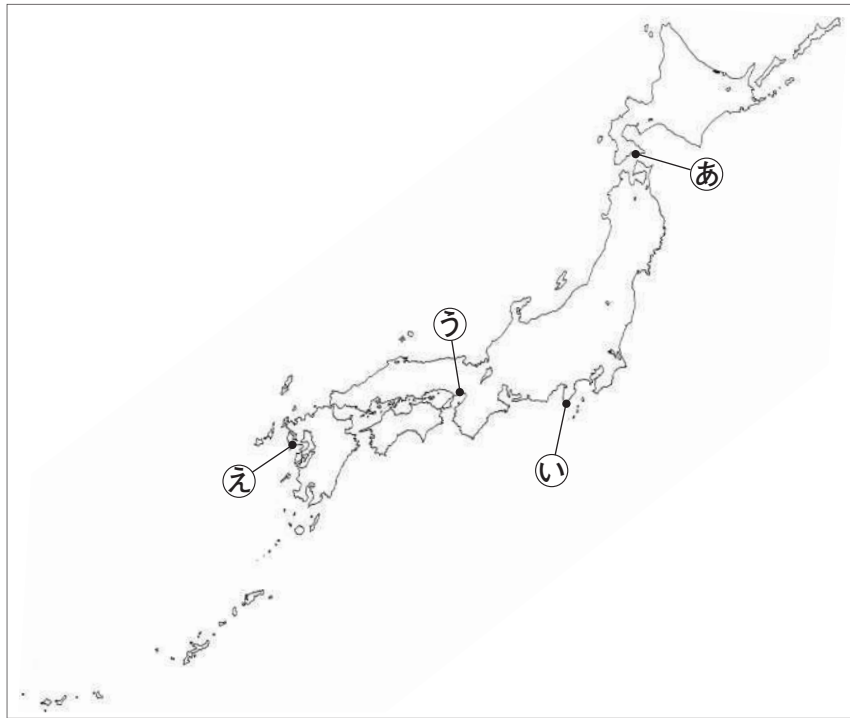
6 次の略年表を見て、下の1～5の問いに答えなさい。

略年表

西 暦	で き ご と
1854年	① <u>日米和親条約が結ばれる</u>
1871年	廃藩置県が行われる……………
1894年	日清戦争が始まる…………… A
1918年	② <u>米騒動</u> が起こる
1929年	③ <u>世界恐慌</u> が起こる
1964年	④ <u>東海道新幹線が開通する</u>

1 年表中の下線部①に「日米和親条約が結ばれる」とあるが、この結果、開港した二つの港の場所はどこか。次の略地図中の・印(あ)～(え)から二つ選び、その記号を書け。

略地図



2 年表中のAの時期に我が国で起こった次のア～エのできごとを、年代の古いものから順に並べ、その記号を書け。

- ア 大隈重信により、立憲改進黨が結成される。
- イ 伊藤博文が、初代の内閣総理大臣に就任する。
- ウ 板垣退助らにより、民撰議院設立建白書が政府に提出される。
- エ 第1回衆議院議員総選挙が行われ、帝国議会が開かれる。

3 年表中の下線部②に「米騒動」とあるが、米騒動の直後に原敬が内閣を組織した。次の資料Ⅰは、原敬内閣発足時の閣僚の所属政党などを表したものであり、資料Ⅱは、このときの政党別の衆議院議員数を表したものである。我が国最初の本格的な政党内閣といわれる原敬内閣の特色として、資料Ⅰと資料Ⅱをもとにわかることを、「閣僚」の語を使って、簡潔に書け。

資料Ⅰ

閣僚	所属政党など
内閣総理大臣	立憲政友会
外務大臣	外務省官僚
内務大臣	立憲政友会
大蔵大臣	立憲政友会
陸軍大臣	陸軍
海軍大臣	海軍
司法大臣	立憲政友会
文部大臣	立憲政友会
農商務大臣	立憲政友会
通信大臣	立憲政友会
内閣書記官長	立憲政友会
法制局長官	立憲政友会

(国史大辞典などより作成)

資料Ⅱ

政党名	衆議院議員数
立憲政友会	164人
憲政会	118人
立憲国民党	37人
その他	62人

(議会制度百年史による)

4 年表中の下線部③の「世界恐慌」は、アメリカのニューヨークの株式市場で株価が大暴落したことをきっかけとして起こった世界的な経済危機である。この世界恐慌以後の各国のできごととして誤っているものを、次のア～エから一つ選び、その記号を書け。

- ア ドイツでは、ヒトラーが率いる政党が政権を握った。
- イ イギリスでは、他国の商品をしめ出すブロック経済が行われた。
- ウ アメリカでは、ニューディール（新規まき直し）政策が始まった。
- エ ロシアでは、ソビエト社会主義共和国連邦（ソ連）が成立した。

5 年表中の下線部④に「東海道新幹線が開通する」とあるが、東海道新幹線の開通以後に我が国で起こったできごととして正しいものを、次のア～エから一つ選び、その記号を書け。

- ア 環境庁が設置される
- イ テレビ放送が開始される
- ウ 湯川秀樹がノーベル賞を受賞する
- エ 自衛隊が発足する