

令和5年度A日程
学力検査問題

②

社 会

注 意

- 1 開始の合図があるまで問題用紙を開いてはいけません。
- 2 解答用紙は問題用紙の中に挟んであります。
- 3 問題用紙は表紙を除いて11ページで、問題は **1** から **6** まであります。
- 4 開始の合図があったら、まず、問題用紙および解答用紙の所定の欄に
志願先高等学校名と受検番号を書きなさい。
- 5 答えはすべて**解答用紙の指定された欄**に書きなさい。

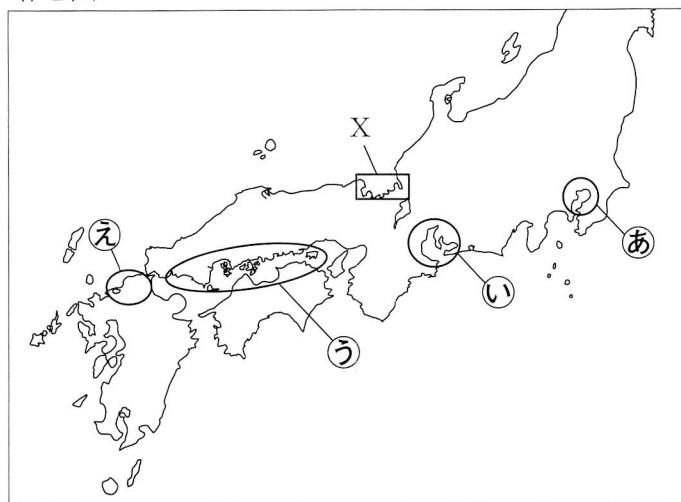
志願先高等学校名

高等学校

受 検 番 号

- 1 次の1～4の問いに答えなさい。
- 1 次の略地図を見て、下の(1)・(2)の問いに答えなさい。

略地図

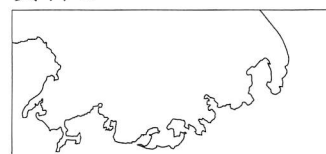


- (1) 次の文は、ある地域に見られる工業の特徴について述べたものである。この地域を、略地図中の○で示したあ～えから一つ選び、その記号を書きなさい。

この地域の内陸部では、陶磁器やファインセラミックスが生産されている。また、古くは繊維工業が盛んで、織物機械をつくる技術をもとに自動車生産に関連した工業が発展した。臨海部には製鉄所や石油化学コンビナートなどが集まり、日本最大の工業地帯である。

- (2) 右の資料Ⅰは、略地図中の□で示したXの部分を拡大したものである。この地域には、複雑に入り組んだ海岸線が見られる。このような地形を何というか、書きなさい。

資料Ⅰ



- 2 次の資料Ⅱは、近畿地方の2府5県について、2016年における国宝・重要文化財の指定件数、卸売業・小売業の事業所数、面積、海岸線総延長を表したものである。大阪府、京都府を表したものを、資料中のア～エからそれぞれ一つ選び、その記号を書きなさい。

資料Ⅱ

府県	指定件数		事業所数		面積 (km ²)	海岸線 総延長 (km)
	国宝	重要文化財	卸売業	小売業		
ア	232	2 169	7 087	21 946	4 612	315
奈良	201	1 323	2 235	9 812	3 691	-
イ	60	676	36 071	63 526	1 905	241
ウ	55	819	2 696	10 482	4 017	-
エ	36	389	2 769	10 109	4 725	651
兵庫	20	467	12 834	41 309	8 401	850
三重	4	188	4 214	15 363	5 774	1 140

(文化庁の資料、データで見る県勢2018年版、2022年版、国土交通省の資料による)

3 次の資料Ⅲは、2001年（平成13年）から山梨県にある河口湖を訪れた釣り客から遊漁税を徴取することを知らせる案内板であり、資料Ⅳは、遊漁税の導入の経緯について表したものである。資料Ⅲと資料Ⅳから考えられる遊漁税が導入された目的について、「両立」の語を使って、簡潔に書きなさい。

資料Ⅲ



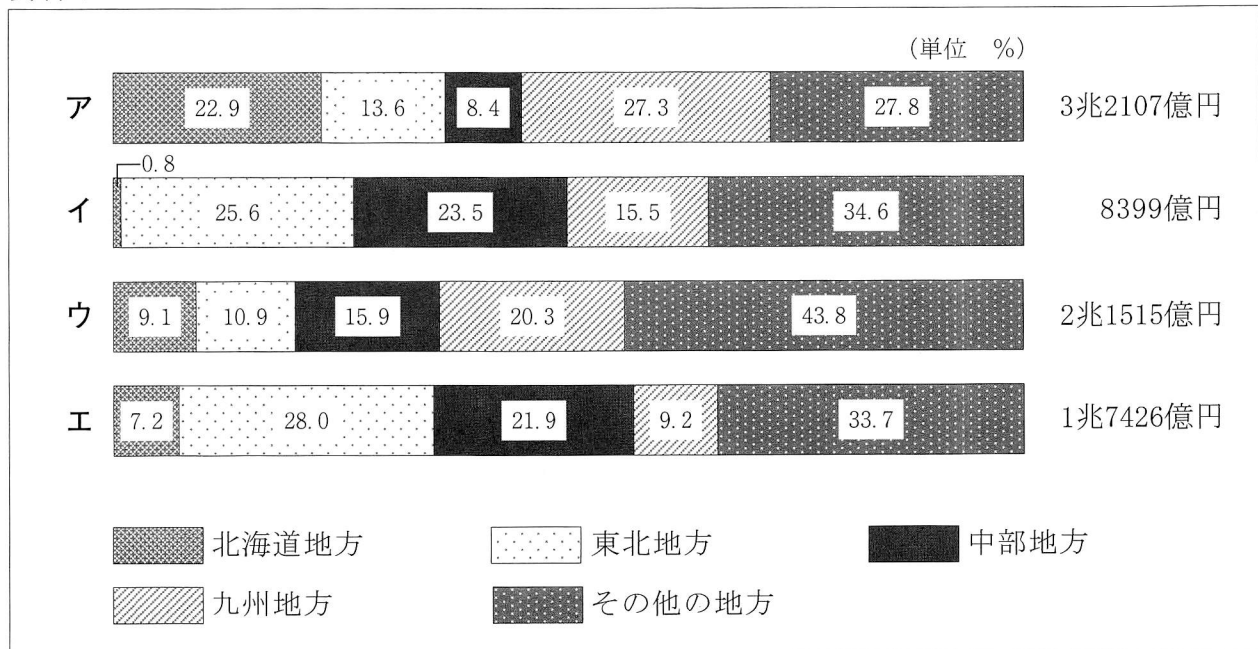
資料Ⅳ

河口湖は富士五湖の一つとして国内外から多くの観光客が訪れております。また、富士山が見えるすばらしい環境の釣り場としても、多くの方々に知られるようになりました。近年、ブラックバス釣りの人気が高まり、釣り人の増加とともに河口湖周辺の違法駐車（路上・河川敷）、トイレの不足による汚染行為、釣り糸及びワーム（擬似餌）の放置による環境面への悪影響が問題となりました。

（富士河口湖町のホームページから一部抜粋）

4 次の資料Ⅴは、2019年の我が国における、米、野菜、果実、畜産の産出額と、それぞれの産出額に占める北海道地方、東北地方、中部地方、九州地方、その他の地方の割合を表したものである。米を表したものを、資料中のア～エから一つ選び、その記号を書きなさい。

資料Ⅴ



（データでみる県勢2022年版による）

- 2 はるかさんは、我が国と外国との関わりの歴史について調べてカードを作成した。次のカードA～Dは、その中の4枚である。このカードを見て、下の1～5の問いに答えなさい。


カード

A 7～9世紀	B 15世紀	C 16世紀	D 17～19世紀
<p>中国の進んだ文化や政治を取り入れるため①<u>遣隋使</u>や遣唐使が派遣されたが、②<u>平安時代</u>には、遣唐使の派遣は取りやめられた。</p>	<p>明や朝鮮と貿易が行われるなか、1429年に③<u>琉球王国</u>が成立すると、明や朝鮮に加えて琉球王国とも貿易が行われた。</p>	<p>ポルトガル人によって鉄砲が伝わるとともに、④<u>ヨーロッパ</u>との貿易が盛んに行われるようになった。</p>	<p>江戸幕府は日本人の海外渡航を禁止し、貿易を制限したが、オランダや中国、⑤<u>朝鮮</u>などとは貿易が行われた。</p>

- 1 カードA中の下線部①に「遣隋使」とあるが、遣隋使を派遣した聖徳太子によって建てられ、金堂や五重塔など現存する世界最古の木造建築物を含む寺院を何というか、書きなさい。
- 2 カードA中の下線部②に「平安時代」とあるが、平安時代に我が国で起こった次のア～エのできごとを、年代の古いものから順に並べ、その記号を書きなさい。
- ア 藤原道長が摂政となって政治の実権を握った。
 - イ 平清盛が太政大臣となって政治を行った。
 - ウ 白河天皇は上皇となったのちも政治を行った。
 - エ 桓武天皇が坂上田村麻呂を征夷大將軍に任命した。
- 3 カードB中の下線部③に「琉球王国」とあるが、琉球王国が成立した15世紀における我が国の社会、文化に関するできごとの組み合わせとして正しいものを、次のア～エから一つ選び、その記号を書きなさい。
- ア 社会 - 正長の土一揆が起こった 文化 - 足利義政が銀閣を建てた
 - イ 社会 - 正長の土一揆が起こった 文化 - 奥州藤原氏が中尊寺金色堂を建てた
 - ウ 社会 - 島原・天草一揆が起こった 文化 - 足利義政が銀閣を建てた
 - エ 社会 - 島原・天草一揆が起こった 文化 - 奥州藤原氏が中尊寺金色堂を建てた
- 4 カードC中の下線部④に「ヨーロッパ」とあるが、16世紀前半にヨーロッパで起こったできごととして正しいものを、次のア～エから一つ選び、その記号を書きなさい。
- ア イギリスで産業革命が起こり、工業中心の社会へと大きく変わった。
 - イ ドイツのルターが、教皇や教会の権威を否定し、宗教改革が始まった。
 - ウ 政治に対する不満からフランス革命が起こり、人権宣言が発表された。
 - エ ローマ教皇のよびかけにより、十字軍の遠征が始まった。

- 5 カードD中の下線部⑤に「朝鮮」とあるが、次の資料Iは、江戸時代に朝鮮から江戸へ派遣された使節を描いたものである。この使節の名称と、この使節が主にどのようなときに派遣されたかを簡潔に書きなさい。

資料 I



- 3 たつるさんたちは、よりよい社会を築いていくために、「わたしたちの暮らしと政治」について、班ごとに課題を決めて、探究活動を行った。次の各班の課題を見て、下の1～5の問いに答えなさい。

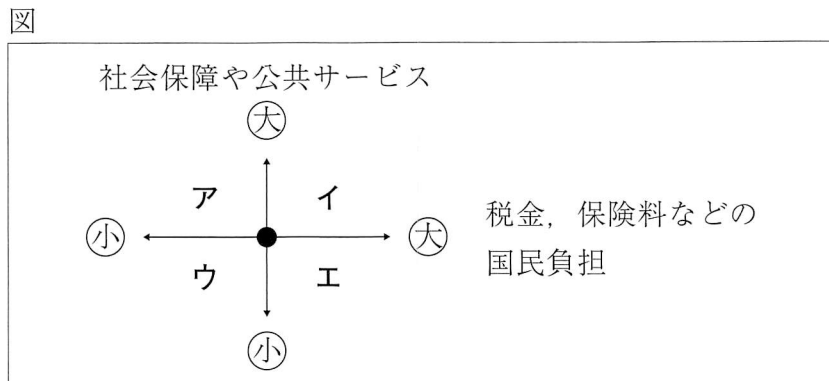
各班の課題

A班	日本国憲法の定める平等は実現されているか
B班	日本は小さな政府を目指すべきか
C班	日本国憲法の改正手続きは公正か
D班	司法制度改革は進んでいるか
E班	国際協力体制は必要か

- 1 A班は、日本国憲法の定める平等について調べた。次の文は、法の下での平等について定めた日本国憲法第14条第1項である。文中の に当てはまることばを書きなさい。

すべて国民は、法の下に平等であつて、人種、信条、、社会的身分又は門地により、政治的、経済的又は社会的関係において、差別されない。

- 2 B班は、「日本は小さな政府を目指すべきか」について賛成派と反対派に分かれ、ディベートを行った。次の図は、出された意見を「社会保障や公共サービス」と「税金、保険料などの国民負担」の観点で整理するためのものであり、図の中心にある●は現状を示している。下の【意見】をこの図を用いて整理するとき、図中のどこに置くのがよいか、最も適切なものを、図中のア～エから一つ選び、その記号を書きなさい。



【意見】

日本では少子高齢化が進み、働く世代の割合が減って、人口の25%以上を65歳以上の人が占めています。これからも高齢者が増えることから、政府は、消費税率を上げたり、高所得者への課税率を上げたりして、高齢者への年金や社会の中で弱い立場になりやすい人々への支援を充実させるべきだと思います。

- 3 次の資料Iは、C班が日本国憲法の改正手続きについて、調べたことをまとめたノートの一部である。資料中の ・ に当てはまることばの組み合わせとして正しいものを、下のア～エから一つ選び、その記号を書きなさい。

資料I

【日本国憲法の改正手続きは公正か】

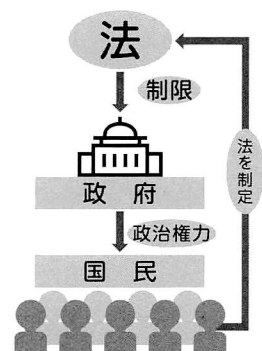
①手続きについて

○日本国憲法第96条では、憲法改正は、衆議院と参議院の各議院の総議員の3分の2以上の賛成で国会がこれを発議し、国民投票においてその の賛成を必要とすると定められている。

○憲法改正国民投票とは、私たちが憲法改正に関して最終的な意思決定をするもので、そのための具体的な手続きが「日本国憲法の改正手続に関する法律（憲法改正国民投票法）」に定められている。

②気づいたこと

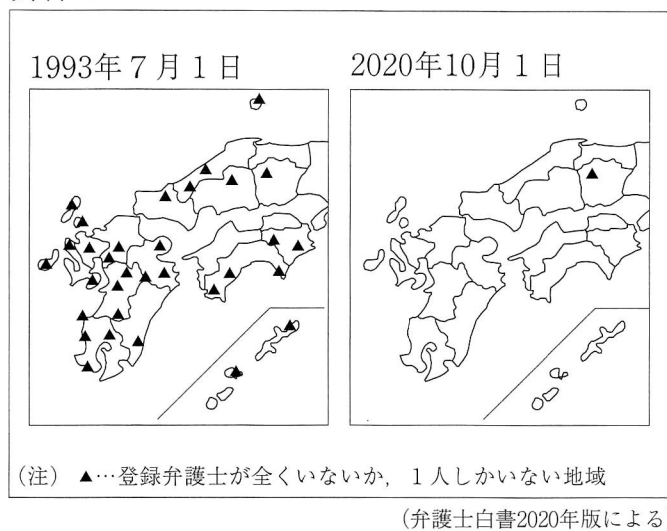
憲法の改正は国民投票によることから、政治権力も民主的に定められた法に従わなくてはならないという考えが反映されていることが分かった。右の図は、「 」というこの考え方を表したものである。



- ア b - 過半数 c - 三権分立 イ b - 3分の2 c - 三権分立
 ウ b - 過半数 c - 法の支配 エ b - 3分の2 c - 法の支配

4 D班は、司法制度改革について調べる中で、誰でも法律に関するサービスを受けられるように、2006年に法テラスが設立されたことを知り、中国、四国、九州の17県について資料を作成した。次の資料Ⅱは、1993年7月1日と2020年10月1日における地方・家庭裁判所支部管轄地域を単位として、登録弁護士が全くいないか、1人しかいない地域を表した略地図であり、資料Ⅲは、2020年における法テラスの事務所数ごとに県名を整理して表したものである。資料Ⅱと資料Ⅲから読み取れる、登録弁護士が全くいないか、1人しかいない地域の数の変化と法テラスの事務所数との関係について、簡潔に書きなさい。

資料Ⅱ



資料Ⅲ

法テラスの事務所数	県名
7 箇所	長崎県
5 箇所	鹿児島県
4 箇所	高知県
3 箇所	島根県
2 箇所	鳥取県, 福岡県, 熊本県, 宮崎県, 沖縄県
1 箇所	岡山県, 広島県, 山口県, 徳島県, 香川県, 愛媛県, 佐賀県, 大分県

(法テラス白書令和元年度版による)

5 E班は、世界のさまざまな国際協力体制について調べた。次の資料Ⅳは、E班がある国際協力体制についてまとめたノートの一部である。資料Ⅳに述べられた国際協力体制として正しいものを、下のア～エから一つ選び、その記号を書きなさい。

資料Ⅳ

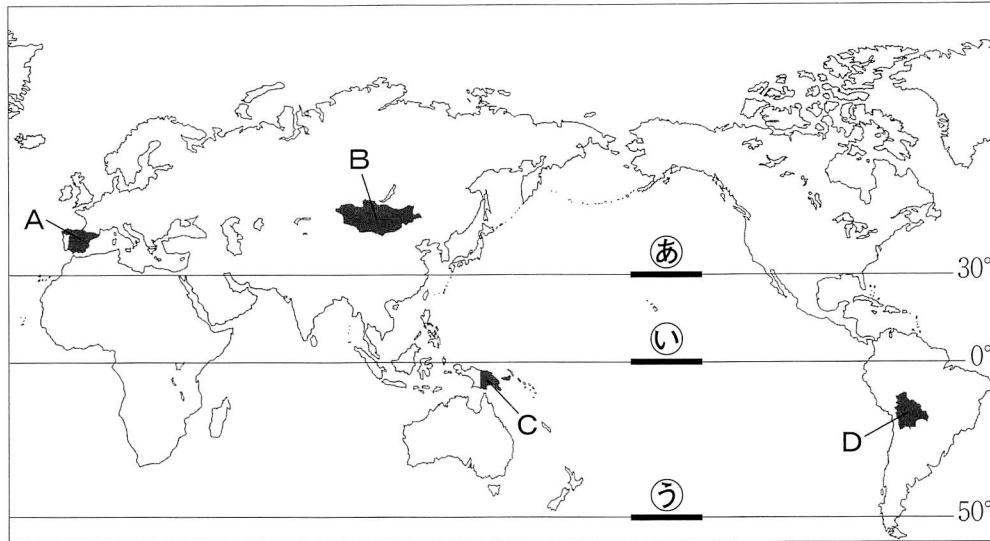
○1993年、経済、政治、外交などの面での結びつきの強化を目指して発足した。
 ○2020年時点で27の国が加盟している。
 ○多くの加盟国が共通通貨であるユーロを導入している。

- ア 東南アジア諸国連合 (ASEAN)
 イ 南米南部共同市場 (MERCOSUR)
 ウ ヨーロッパ連合 (EU)
 エ アフリカ連合 (AU)

4 次の1～4の問いに答えなさい。

1 次の略地図Iを見て、下の(1)・(2)の問いに答えなさい。


略地図I



(1) 地図中の——で示した①～③は、地図上ではすべて同じ長さであるが、実際の距離は異なる。実際の距離が最も短いものから順に並べ、その記号を書きなさい。

(2) 右の資料Iは、ある国の自然や文化と結び付いた伝統的な住居である。この国を、地図中の●で示したA～Dから一つ選び、その記号を書きなさい。

資料I



2 次の資料IIは、2021年におけるインドとタイ、それぞれの国内での企業別乗用車生産台数の割合を表したものである。資料からわかるインドとタイの乗用車生産に共通してみられる特徴を、簡潔に書きなさい。

資料II

インド国内での企業別乗用車生産台数の割合		タイ国内での企業別乗用車生産台数の割合	
A社（日本系企業）	60.7%	F社（日本系企業）	24.7%
B社（韓国系企業）	17.9%	D社（日本系企業）	23.1%
C社（インド系企業）	8.1%	G社（日本系企業）	19.0%
D社（日本系企業）	5.1%	E社（日本・フランス企業連合）	11.0%
E社（日本・フランス企業連合）	4.3%	H社（日本系企業）	7.0%
その他	3.9%	その他	15.2%

（マークライنز株式会社による）

3 次の資料Ⅲは、2019年におけるアメリカ合衆国、カナダ、メキシコの輸出総額、輸入総額と、輸出総額、輸入総額に占める割合のそれぞれ上位5位までの輸出相手国、輸入相手国を表したものである。この資料から読み取れることについて述べた文として正しいものを、下のア～エから一つ選び、その記号を書きなさい。

資料Ⅲ

アメリカ合衆国					カナダ						
輸出総額 (百万ドル)		1 641 118	輸入総額 (百万ドル)		2 498 402	輸出総額 (百万ドル)		446 098	輸入総額 (百万ドル)		479 228
順位	輸出相手国	輸出総額に占める割合(%)	順位	輸入相手国	輸入総額に占める割合(%)	順位	輸出相手国	輸出総額に占める割合(%)	順位	輸入相手国	輸入総額に占める割合(%)
1	カナダ	17.8	1	中国	18.1	1	アメリカ合衆国	75.7	1	アメリカ合衆国	50.8
2	メキシコ	15.6	2	メキシコ	14.3	2	中国	3.9	2	中国	12.5
3	中国	6.5	3	カナダ	12.8	3	イギリス	3.3	3	メキシコ	6.1
4	日本	4.5	4	日本	5.7	4	日本	2.1	4	ドイツ	3.2
5	イギリス	4.2	5	ドイツ	5.1	5	メキシコ	1.2	5	日本	2.7

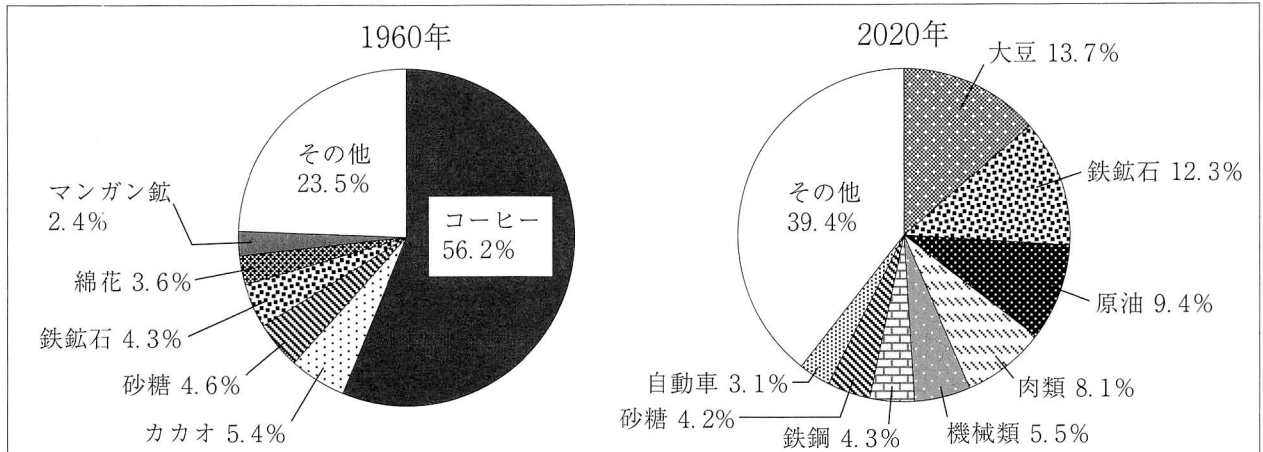
メキシコ					
輸出総額 (百万ドル)		460 704	輸入総額 (百万ドル)		482 613
順位	輸出相手国	輸出総額に占める割合(%)	順位	輸入相手国	輸入総額に占める割合(%)
1	アメリカ合衆国	80.5	1	アメリカ合衆国	45.2
2	カナダ	3.1	2	中国	18.2
3	中国	1.5	3	日本	3.9
4	ドイツ	1.5	4	ドイツ	3.9
5	韓国	1.1	5	韓国	3.9

(世界国勢図会2021/22年版による)

- ア アメリカ合衆国の輸出相手国と輸入相手国は、いずれも北アメリカ州の国が最上位である。
- イ アメリカ合衆国、カナダ、メキシコのいずれも、輸出相手国の上位5か国にヨーロッパ州の国は含まれていない。
- ウ アメリカ合衆国、カナダ、メキシコの中で、輸入総額が輸出総額を最も大きく上回っている国はメキシコである。
- エ カナダでは、輸出総額と輸入総額のいずれにおいても、アメリカ合衆国が5割以上を占めている。

4 次の資料Ⅳは、1960年と2020年におけるブラジルの輸出品目の割合を表したものである。2020年と比べると、1960年の輸出品目は特定の種類の農作物に偏っている。このように特定の種類の農作物や鉱産資源などの輸出に頼っている経済を何というか、書きなさい。

資料Ⅳ



(日本国勢図会1963年版, 世界国勢図会2022/23年版による)

5 次の略年表を見て、下の1～5の問いに答えなさい。

略年表

西 暦	できごと
1787年	寛政の改革が始まる……………
1868年	江戸城が明け渡される……………
1871年	廃藩置県が行われる……………
1904年	日露戦争が始まる……………
1918年	① <u>第一次世界大戦が終わる</u>
1936年	<input type="text" value="X"/> が起こる
1945年	② <u>G H Qによる民主化政策が始まる</u>

1 年表中のAの時期に、我が国で起こった攘夷運動に関係するできごとについて述べた文として最も適切なものを、次のア～エから一つ選び、その記号を書きなさい。

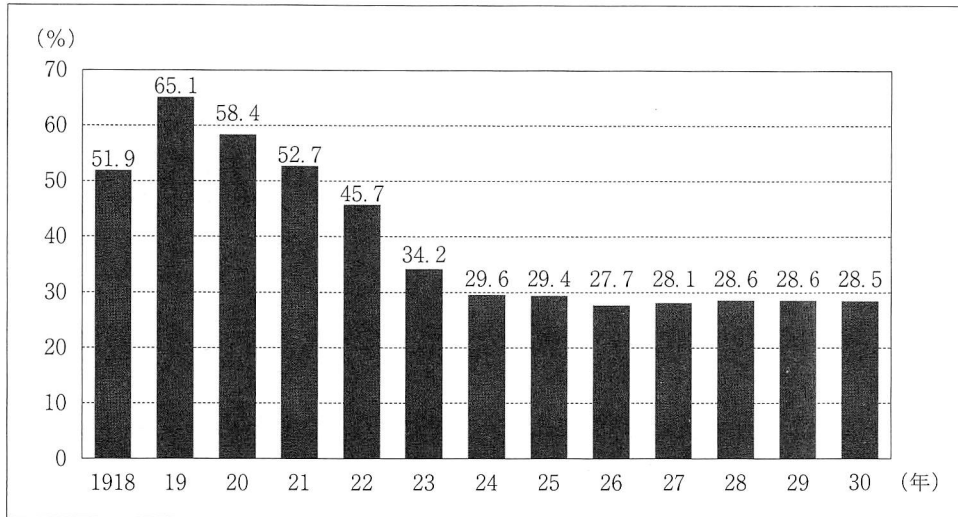
- ア 長州藩が、外国勢力を追いはらおうと外国船を砲撃した。
- イ 大塩平八郎が、ききんに苦しむ人々を救おうと大阪で乱を起こした。
- ウ 老中の水野忠邦が、株仲間を解散させた。
- エ 15代将軍の徳川慶喜が、朝廷に政権を返上した。

2 年表中のBの時期に、言文一致を主張し、話し言葉（口語体）で書いた小説『浮雲』を発表した人物として正しいものを、次のア～エから一つ選び、その記号を書きなさい。

- ア 樋口一葉 イ 芥川龍之介 ウ 二葉亭四迷 エ 正岡子規

3 年表中の下線部①に「第一次世界大戦が終わる」とあるが、次の資料 I は、1918年から1930年までの我が国の歳出に占める軍事費の割合を表したものである。1924年から1930年にかけて軍事費の割合がそれ以前と比べて低く抑えられているのは、1921年から1922年にかけてアメリカで開催された国際会議での決定が影響している。軍事費の割合が低く抑えられた理由を、その国際会議の名称をあげ、取り決められた内容を説明したうえで、簡潔に書きなさい。

資料 I



(数字でみる日本の100年改訂第7版による)

- 4 年表中の は、国家の改造を目指した陸軍の青年将校らが、大臣などを殺傷し、東京の中心部を占拠した事件である。この事件を何というか、書きなさい。
- 5 年表中の下線部②に「GHQによる民主化政策が始まる」とあるが、次の資料 II は、みらいさんがGHQによる民主化政策についてまとめたノートの一部である。ノート中の ・ に当てはまることばの組み合わせとして正しいものを、下のア～エから一つ選び、その記号を書きなさい。

資料 II

【GHQ（連合軍総司令部）による民主化政策】

産業や経済の民主化を進めるために、 を実施するとともに、地主の耕地を買いあげ、小作人に安く売りわたす を行いました。

- | | | | | | |
|---|----------|----------|---|----------|----------|
| ア | a - 欧化政策 | b - 地租改正 | イ | a - 欧化政策 | b - 農地改革 |
| ウ | a - 財閥解体 | b - 地租改正 | エ | a - 財閥解体 | b - 農地改革 |

6 次の1～3の問いに答えなさい。

1 世界が直面しているさまざまな課題を解決するために、2015年に国際連合で採択された、2030年までに達成することを目指した17の目標を何というか、書きなさい。

2 消費生活と経済活動について述べた文として誤っているものを、次のア～エから一つ選び、その記号を書きなさい。

ア 貨幣（通貨）は、財やサービスと交換することができ、財やサービスの価値を価格として表す目安になり、ためておくことができる。

イ 小売業者は、安い商品を提供するために、生産者からいくつもの卸売業者を経由して仕入れている。

ウ 日本では、自由で公正な競争が行われる市場を保つために独占禁止法が定められており、公正取引委員会がこの法律を運用して不正な行為を監視している。

エ 製品の欠陥によって消費者が被害を受けた場合、製造物責任法により、損害賠償の責任を製造業者等に負わせることができる。

3 ゆかりさんは我が国の財政について調べた。このことについて、次の(1)・(2)の問いに答えなさい。

(1) 次の資料Ⅰは、ゆかりさんが財政のはたらきについてまとめたノートの一部である。ノート中の に当てはまることばを書きなさい。

資料Ⅰ

【我が国の財政のはたらき】

○財政とは……政府が収入を得て行う経済活動のこと。

○財政の収入…国民が義務として納める税金と、公債金を主な収入とする。

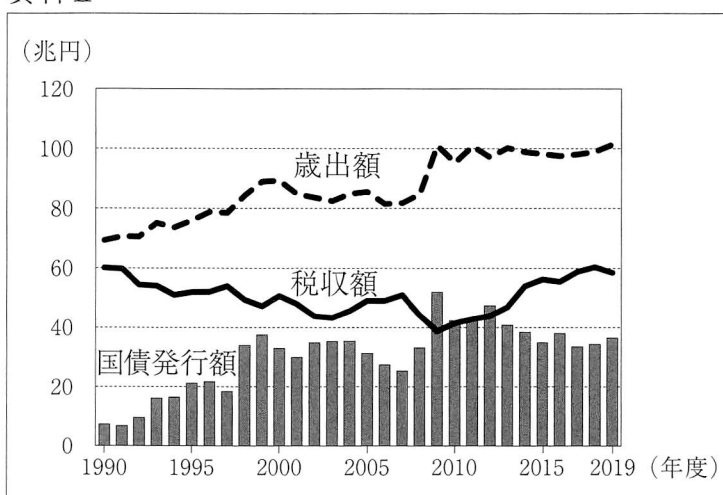
○財政の役割…・消防や警察のように民間企業からの供給が難しい公共サービスや、道路や橋、港湾など社会 を供給する。

・所得の多い人と少ない人の経済格差を是正する所得の再分配を行う。

・景気の調整を行い、経済の安定をはかる。

(2) 右の資料Ⅱは、1990年度から2019年度までの我が国の歳出額、税収額、国債発行額の推移を表したものである。資料からわかる、政府が国債を発行する目的を、「歳出」と「税収」の二つの語を使って、簡潔に書きなさい。

資料Ⅱ



(財務省の資料による)